


わり算 6

小1		小3	◎	小5	△
小2		小4	◎	小6	

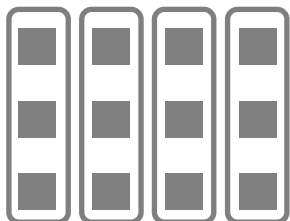
な ま え	組	番
-------------	---	---

お宝の中に同じまとまりがいくつ分？

12このお宝の中に3つのまとまりがいくつ分？



$$12 \div 3 = 4$$



はな花びらを48枚つみしました。6枚ずつ1つの袋に入れるとすると、袋はいくつ必要ですか。
えすかずかいて求めましょう。

答	式 (式は答を出してから立てます)
---	-------------------

わり算 7

小1		小3	◎	小5	△
小2		小4	◎	小6	

な ま え	組	番
-------------	---	---

せいなるカメのかめしろう亀史郎は背中にせなか幸せしあわのかけらをたくさんの乗せています。多おおすぎて一いっぽある歩歩あるくたびに3かけらお落ちてしまいます。今日きょう亀史郎が歩あるいた後あとをみみてみると、42のしあわ幸せのかけらがお落ちています。今日きょう亀吉は何なん歩歩あるいたでしょう。絵え図ずを描かいて求もとめましょう。

1文読んだら絵にして
また1文読んだら絵にすべし！

答	式 (式は答を出してから立てます)
---	-------------------

わり算 8

小1		小3	◎	小5	△
小2		小4	◎	小6	

な ま え	組	番
-------------	---	---

1mの紐^{ひも}から、15cmの紐^{ひも}をできるだけ多く^{おおつく}作るとすると、15cmの紐^{ひも}は何本^{なんぼん}できますか。
絵^え図^ずをか^かいて^{もと}求め^{もと}ましょう。

読むのは一度だけ

ゆっくりじっくり読んで絵にすべし！

答	式 (式は答を出してから立てます)
---	-------------------

わり算 9

小1		小3	◎	小5	△
小2		小4	◎	小6	

な ま え	組	番
-------------	---	---

今日は近所の神社でお祭りなので、がっちゃんは貯金箱に貯めていた45枚の百円玉を持っていきました。がっちゃんはそこで200円のかき氷を1個買って食べた後、1回300円の『亀すくい』にはまってしまい気がついたら残り100円になっていました。がっちゃんは何回『亀すくい』をしたでしょうか。絵図を描いて求めましょう

間違いは宝物、消しゴムを使うべからず！

答	式 (式は答を出してから立てます)
---	-------------------

わり算 10

小1		小3	◎	小5	○
小2		小4	◎	小6	△

な ま え	組	番
-------------	---	---

三つ目小僧のみっくんはポケッとしているモンスター(略してポケモン)が大好きです。今日は新発売のポケモンカードを買いにきました。カードは1パック5枚入りで150円します。みっくんのお財布には100円玉が丁度20枚入っています。ポケモンカードを^か買えるだけ^か買うとすると何枚^{なんまいか}買えるでしょう。絵図を描いて^{えずか}求め^{もと}ましょう。

絵を描かずに計算するのは厳禁
計算は筆算で確実にすべし！

答	式 (式は答を出してから立てます)
---	-------------------


わり算 6

小1		小3	◎	小5	△
小2		小4	◎	小6	

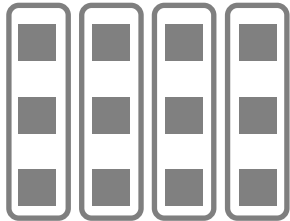
な ま ま え	組	番
------------------	---	---

お宝の中に同じまとまりがいくつ分？

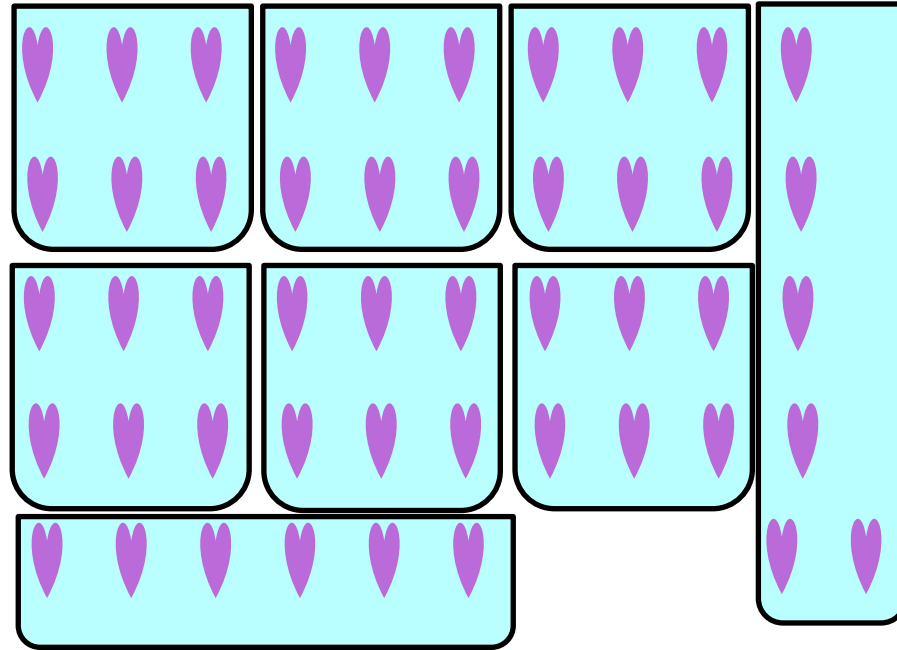
12このお宝の中に3つのまとまりがいくつ分？



$$12 \div 3 = 4$$



花びらを48枚つみしました。6枚ずつ1つの袋に入れるとすると、袋はいくつ必要ですか。
絵図を描いて求めましょう。




答	8つ(8袋)	式 例 $48 \div 6 = 8$
---	--------	---------------------

わり算 7

小1		小3	◎	小5	△
小2		小4	◎	小6	

な ま え	組	番
-------------	---	---

せいなるカメの亀史郎は背中に幸せのかけらをたくさん乗せています。多すぎて一歩歩くたびに3かけら落ちてしまいます。今日亀史郎が歩いた後を見つみると、42のしあわせのかけらが落ちています。今日亀史郎は何歩歩いたでしょう。絵図を描いて求めましょう。



1文読んだら絵にして
また1文読んだら絵にすべし！

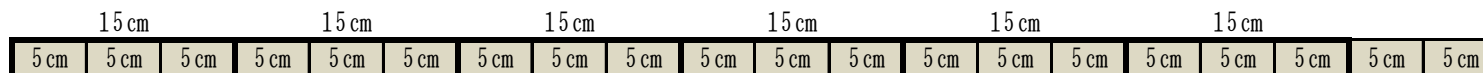
答	14歩	式 例 $42 \div 3 = 14$
---	-----	----------------------

わり算 8

小1		小3	◎	小5	△
小2		小4	◎	小6	

な ま え	組	番
-------------	---	---

1mの紐^{ひも}から、15cmの紐^{ひも}をできるだけ多く^{おおつく}作るとすると、15cmの紐^{ひも}は何本^{なんぼん}できますか。
絵^え図^ずを描^かいて求^{もと}めましょ。う。



読むのは一度だけ
ゆっくりじっくり読んで絵にすべし！

答	6本	式 例 $100 \div 15 = 6$ あまり10
---	----	-----------------------------

わり算 9

小1		小3	◎	小5	△
小2		小4	◎	小6	

な	組	番
ま		
え		

今日は近所の神社でお祭りなので、がっちゃんはお金箱に貯めていた45枚の百円玉を持っていきました。がっちゃんはそこで200円のかき氷を1個買って食べた後、1回300円の『亀すくい』にはまってしまい気がついたら残り100円になっていました。がっちゃんは何回『亀すくい』をしたのでしょうか。絵図を描いて求めましょう

間違いは宝物、消しゴムを使うべからず！

答	14回	式 例 $45 \times 100 = 4500$ 、 $4500 - 200 = 4300$ $4300 \div 300 = 14$ あまり100
---	-----	---

