

比 1

小1		小3		小5	△
小2		小4		小6	◎

な ま え	組	番
-------------	---	---

あめだま 20 個やまになっています。それをひよこ三兄弟と双子モグラがみんな同じ数になるように分けてそれぞれ袋に入れました。ひよこ三兄弟が持っているあめだまの合計と、双子モグラが持っているあめだまの合計は、それぞれいくつでしょうか。絵図を描いて求めましょう。

わかってても、あえて絵にすべし！

答	式 (式は答を出してから立てます)
---	-------------------

比 2

小1		小3		小5	△
小2		小4		小6	◎

な ま え	組	番
-------------	---	---

双子の兄弟モリオとルイズがきのこをとり山にやってきました。1時間頑張ってきのこを探した結果、モリオとルイズは合わせてちょうど4kgきのこをとることができました。とったきのこは5:3でモリオの方が多かったとすると、モリオとルイズはそれぞれ何kgのきのこをとったことになりますか。絵図を描いて求めましょう。

比を必ず絵にすべし！

答	式 (式は答を出してから立てます)
---	-------------------

比 3

小1		小3		小5	△
小2		小4		小6	◎

な ま ま え	組	番
------------------	---	---

南国フルーツジュース屋さんの人気商品は「アップルピーチミックスジュース」です。林檎と桃の果汁を3:2で混ぜ合わせて作ります。350mLの「アップルピーチミックスジュース」を2杯つくるためには、林檎の果汁と桃の果汁をそれぞれ何mL用意すればよいでしょうか。絵図を描いて求めましょう。

絵図で答えまでの道筋をたて、
必要な計算は筆算で！

答	式 (式は答を出してから立てます)
---	-------------------

比 4

小1		小3		小5	△
小2		小4		小6	◎

な ま え	組	番
-------------	---	---

なが 長さ182mのロープを使って、たて よこ 縦と横のなが 長さが10:16のちようほうけい 長方形をつくれます。ちようほうけい 長方形のめんせき なん 面積は何 m^2 になりますか。えず か 絵図を描いてもと 求めましょう。

ゆっくりぶん よ ぶんを読み、ていねい え て丁寧に絵にすべし！

答	式 (式は答を出してから立てます)
---	-------------------

比 5

小1		小3		小5	△
小2		小4		小6	◎

な ま え	組	番
-------------	---	---

猿さるさんと犬いぬさんが持もっているきびだんごの個数こすうの比ひは2:3です。犬いぬさんと雉きじさんが持もっているきびだんごの個数こすうの比ひは2:1です。3匹ひきが持もっているきびだんごは全部ぜんぶで39個こだとすると、3匹ひきはそれぞれ何なん個こきびだんごを持もっているのでしょうか。絵図えずを描かいて求もとめましょう。

立式りっしきできずとも、
 絵図えずを描かけば答こたえが視みえる！


答	式 (式は答を出してから立てます)
---	-------------------

比 1

小1	小3	小5	△
小2	小4	小6	◎

な	組	番
ま		
え		

あめだまが20個やまになっています。それをひよこさんきょうだいとふたごさんきょうだいがみんなおなじ数になるようにわけてそれぞれふくろにいれました。ひよこさんきょうだいがもっているあめだまのこうけいふたごもあめだまのこうけいふたごもえずかもとめましょう。



わかって、あえて絵にすべし！

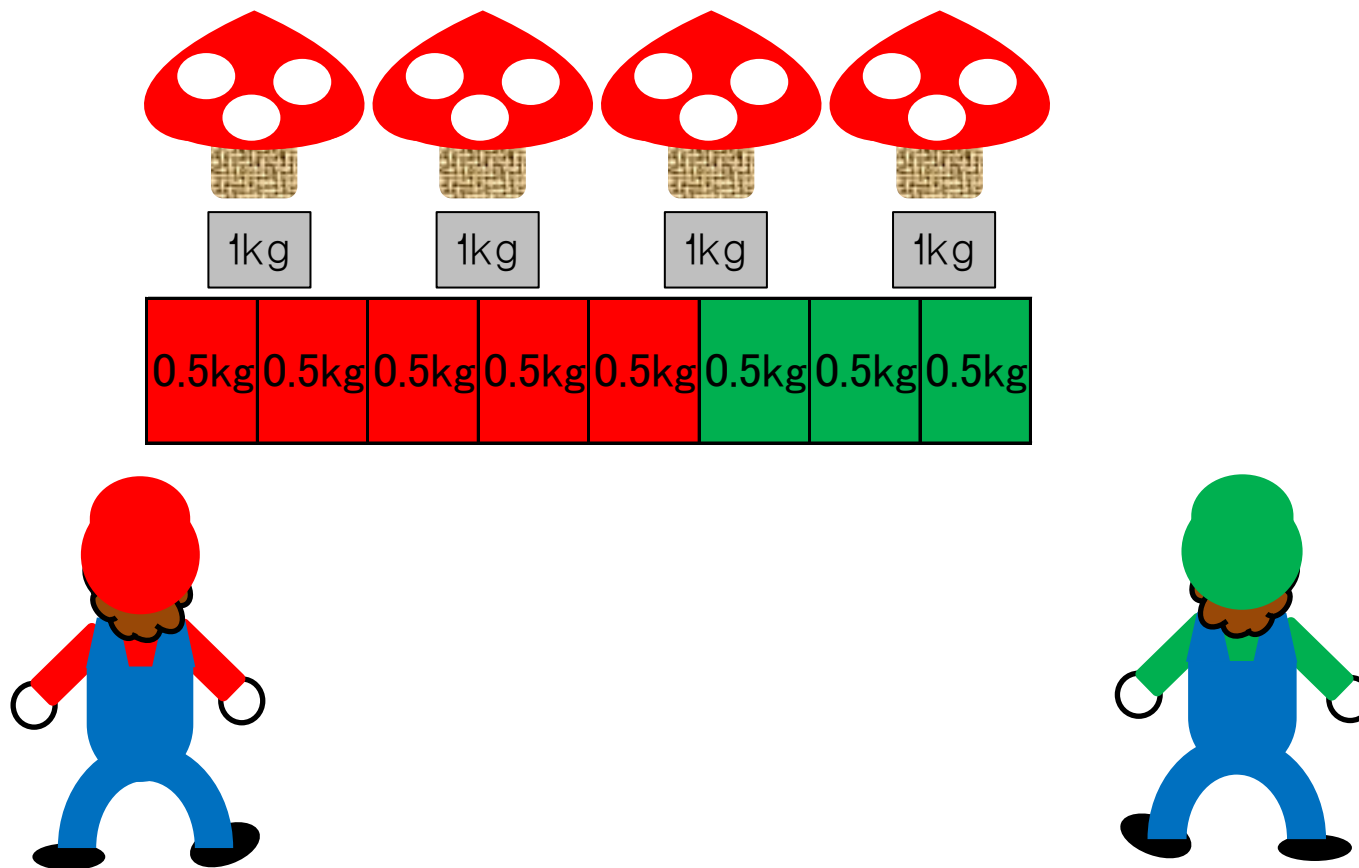
答	ひよこさんきょうだい12個、 ふたごさんきょうだい8個	式 例 $20 \div (3+2) = 4$ $4 \times 3 = 12$ 、 $4 \times 2 = 8$
---	--------------------------------	---

比 2

小1		小3		小5	△
小2		小4		小6	◎

な ま え	組	番
-------------	---	---

双子の兄弟モリオとルイズがきのこをとり山にやってきました。1時間頑張ってきのこを探した結果、モリオとルイズは合わせてちょうど4kgきのこをとることができました。とったきのこは5:3でモリオの方が多かったとすると、モリオとルイズはそれぞれ何kgのきのこをとったことになりますか。絵図を描いて求めましょう。



ひ かなら え
比を必ず絵にすべし！

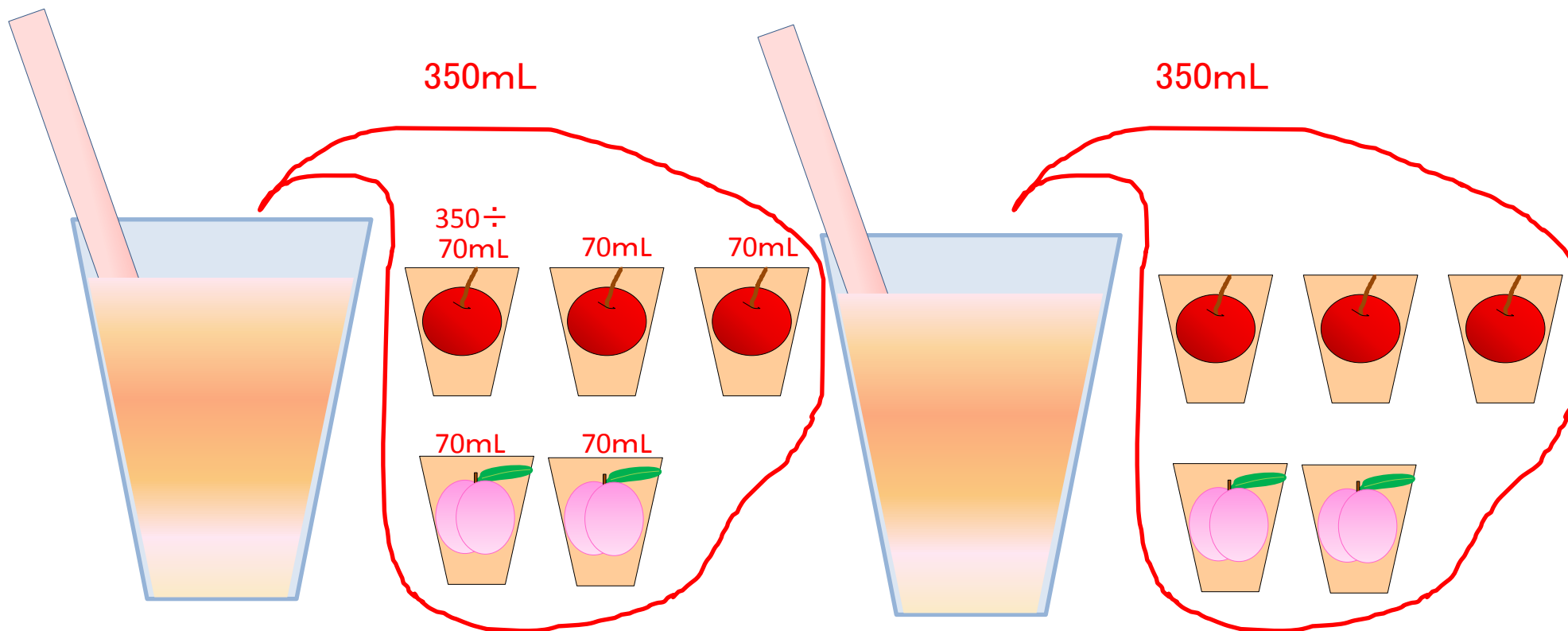
答	モリオ2.5kg ルイズ1.5kg	式例	$4 \div (5+3) = 0.5$ $0.5 \times 5 = 2.5$ 、 $3 \times 0.5 = 1.5$
---	----------------------	----	---

比 3

小1		小3		小5	△
小2		小4		小6	◎

な ま え	組	番
-------------	---	---

南国フルーツジュース屋さんの人気商品は「アップルピーチミックスジュース」です。林檎と桃の果汁を3:2で混ぜ合わせて作ります。350mLの「アップルピーチミックスジュース」を2杯つくるためには、林檎の果汁と桃の果汁をそれぞれ何mL用意すればよいでしょうか。絵図を描いて求めましょう。



絵図で答えまでの道筋をたて、
必要な計算は筆算で！

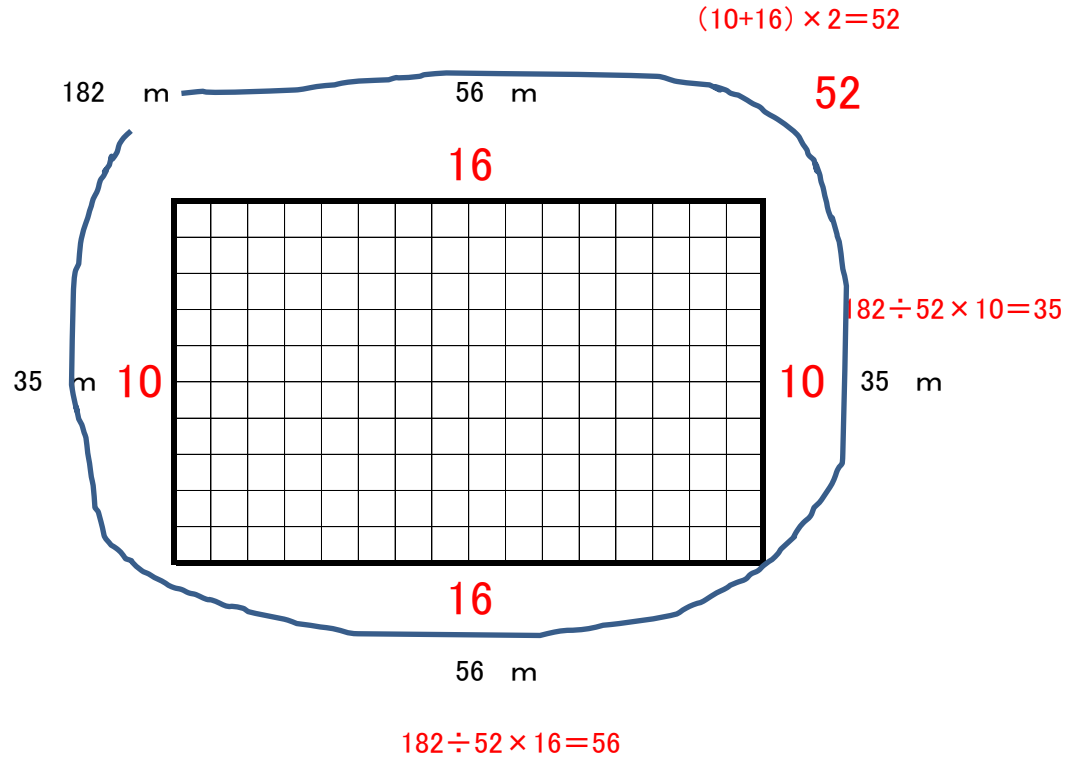
答	林檎420mL 桃280mL	式例 $350 \div (3+2) = 70$ $70 \times 3 \times 2 = 420$ 、 $70 \times 2 \times 2 = 280$
---	-------------------	---

比 4

小1		小3		小5	△
小2		小4		小6	◎

な ま え	組	番
-------------	---	---

なが 長さ182mのロープをつか、たて よこ 縦と横のなが 長さが10:16のちようほうけい 長方形をつくります。ちようほうけい 長方形のめんせき 面積は何 m^2 になリますか。えず 絵図をか もと 求めてましよう。



ゆっくりぶんよ ぶん1文を読み、ていねい え 丁寧に絵にすべし!

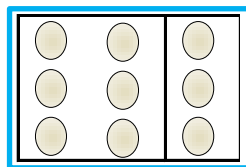

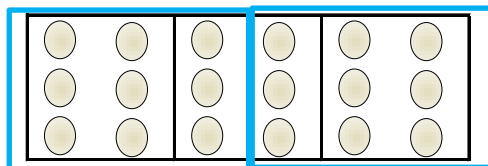

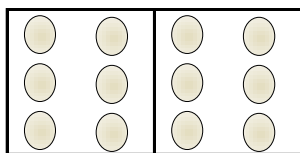

答	$1960 m^2$	式例	$(10+16) \times 2 = 52$ $182 \div 52 \times 10 = 35$ $182 \div 52 \times 16 = 56$
---	------------	----	---

比 5

小1		小3		小5	△
小2		小4		小6	◎

な ま え	組	番
-------------	---	---

猿さるさんと犬いぬさんが持っているきびだんごの個数の比は2:3です。犬いぬさんと雉きじさんが持っているきびだんごの個数の比は2:1です。3匹ひきが持っているきびだんごは全部ぜんぶで39個だとすると、3匹ひきはそれぞれ何個なんこきびだんごを持っているのでしょうか。絵図えずを描いて求めもとましょう。



立式りっしきできずとも、
 絵図えずを描けば答えこたが視みえる！

答	猿くん12個 犬くん18個 雉くん9個	式例 $3 \div 2 = 1.5$ 、 $2 + 3 + 1.5 = 6.5$ $39 \div 6.5 = 6$ 、 $6 \times 2 = 12$ $6 \times 3 = 18$ 、 $6 \times 1.5 = 9$
---	---------------------------	--