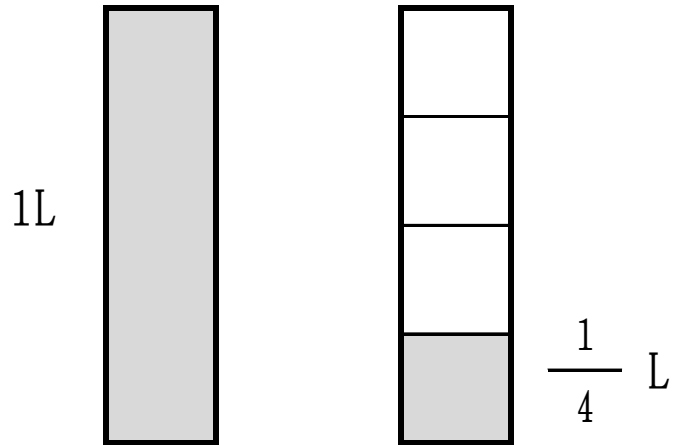


分数 1

小1		小3	◎	小5	○
小2	△	小4	◎	小6	△

な ま え	組	番
-------------	---	---

1つのものを なんこ何個にわけたうちの なんこぶん何個分



1Lを4つにわけたうちの1つ分を

4分の1といい、 $\frac{1}{4}$ L と表示する。

1mの $\frac{3}{4}$ は 何cmになるでしょうか、え絵図をか描いてもと求めましょう。

答	式 (式は答を出してから立てます)
---	-------------------

分数 2

小1		小3	◎	小5	○
小2	△	小4	◎	小6	△

な ま え	組	番
-------------	---	---

1kgの $\frac{3}{8}$ は 何gでしょうか、えず か 絵図を描いて もと 求めましょう。

ゆっくり読んで、確実に絵にすべし。

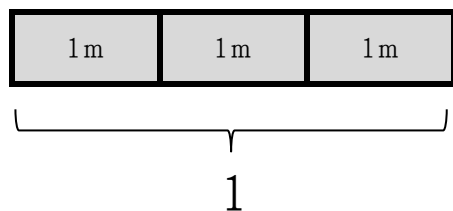
答	式 (式は答を出してから立てます)
---	-------------------

分数 3

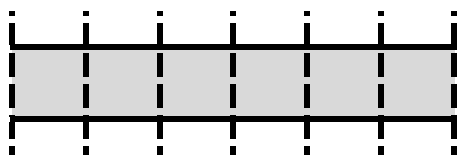
小1		小3	◎	小5	○
小2	△	小4	◎	小6	△

な ま え	組	番
-------------	---	---

3mの $\frac{1}{6}$ は、3mを1つとみなして、



3mを6つにわけたうちの1つ



50cmになる。

4kgの $\frac{5}{8}$ は 何gでしょうか、絵図を描いて求めましょう。

答	式 (式は答を出してから立てます)
---	-------------------

分数 4

小1		小3	◎	小5	○
小2	△	小4	◎	小6	△

な ま え	組	番
-------------	---	---

5mの $\frac{3}{4}$ は 何cmでしょうか、えずか^かもと^{もと}めましょう。

数字ではなく、絵そのもので考えるべし。

答	式 (式は答を出してから立てます)
---	-------------------

分数 5

小1		小3	◎	小5	○
小2	△	小4	◎	小6	△

な ま え	組 番
-------------	-----

野球チーム青空フレンズの今日のおやつは板チョコです。1枚を4人で分けますので1人分は $\frac{1}{4}$ 枚です。

レギュラー9人分のおやつを全部あわせると、板チョコ何枚になるでしょうか。

仮分数・帯分数、それぞれで答えましょう。もちろん絵図を描いて求めますよ。

わかるとは絵にできること 考えるとはその絵を動かすこと
だから わからないとながめていないで絵をかくべし！

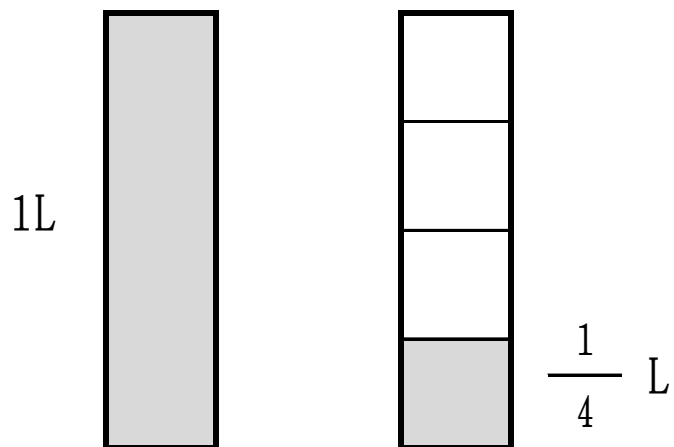
答	式 (式は答を出してから立てます)
---	-------------------

分数 1

小1		小3	◎	小5	○
小2	△	小4	◎	小6	△

な ま え	組	番
-------------	---	---

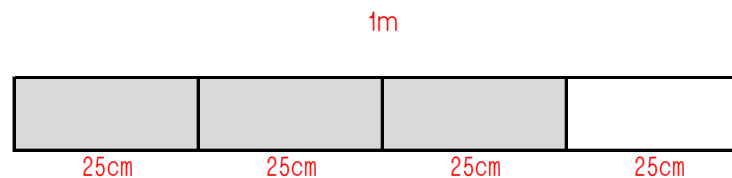
1つのものを なんこ何個にわけたうちの なんこぶん何個分



1Lを4つにわけたうちの1つ分を

4分の1といい、 $\frac{1}{4}$ L と表示する。

1mの $\frac{3}{4}$ は 何cmになるでしょうか、え絵図ずを描いて かもと も求めましょう。



答

75cm

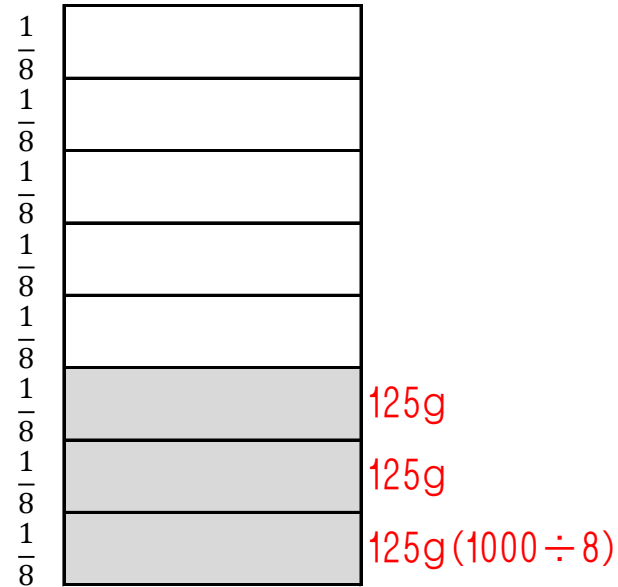
式 例 $100 \div 4 = 25$
 $25 \times 3 = 75$

分数 2

小1		小3	◎	小5	○
小2	△	小4	◎	小6	△

な ま え	組	番
-------------	---	---

1kgの $\frac{3}{8}$ は 何gでしょうか、えず かいて もとめましょう。

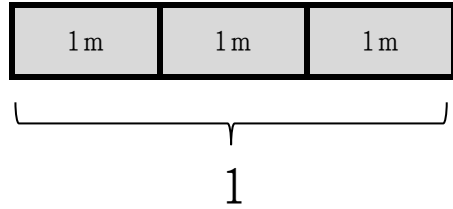


答 375g	式 例 $1000 \div 8 = 125$ $125 \times 3 = 375$
--	---

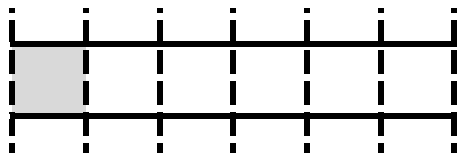
小1		小3	◎	小5	○
小2	△	小4	◎	小6	△

な ま え	組	番
-------------	---	---

3mの $\frac{1}{6}$ は、3mを1つとみなして、

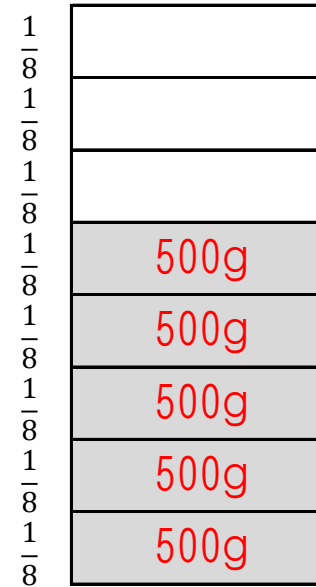


3mを6つにわけたうちの1つ



50cmになる。

4kgの $\frac{5}{8}$ は 何gでしょうか、絵図を描いて求めましょう。



答	2500g	式 例	4000 ÷ 8 = 500 500 × 5 = 2500
---	-------	-----	----------------------------------

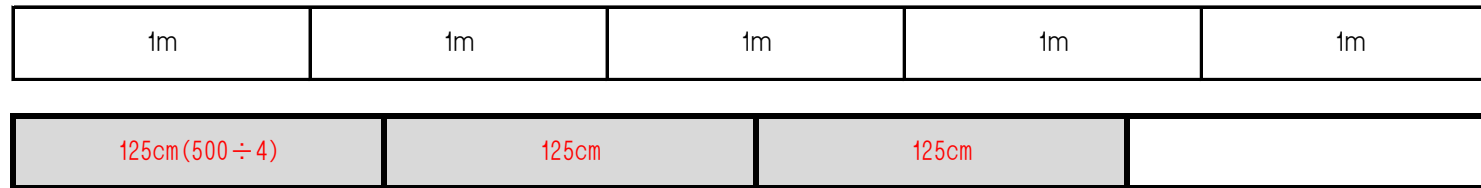
分数 4

小1		小3	◎	小5	○
小2	△	小4	◎	小6	△

な ま え	組	番
-------------	---	---

5mの $\frac{3}{4}$ は 何cmでしょうか、えずかかいてもとめましょう。

5m (500m)



答	375cm	式 例 $500 \div 4 = 125$ $125 \times 3 = 375$
---	-------	--

分数 5

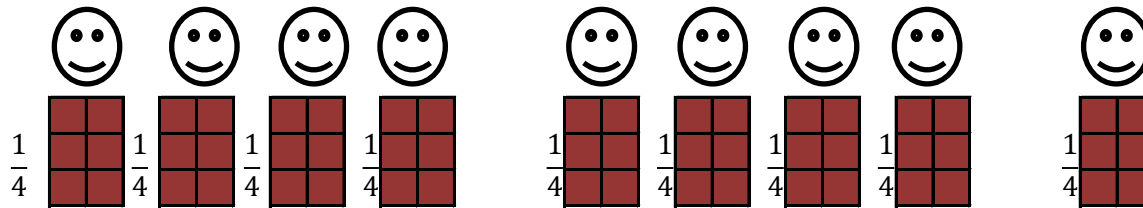
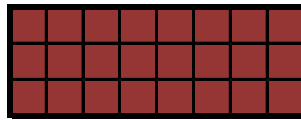
小1		小3	◎	小5	○
小2	△	小4	◎	小6	△

な ま え	組	番
-------------	---	---

野球チーム青空フレンズの今日のおやつは板チョコです。1枚を4人で分けますので1人分は $\frac{1}{4}$ 枚です。

レギュラー9人分のおやつを全部あわせると、板チョコ何枚になるでしょうか。

仮分数・帯分数、それぞれで答えましょう。もちろん絵図を描いて求めますよ。



答	$\frac{9}{4}$ 枚	$2\frac{1}{4}$ 枚	式 例	$\frac{1}{4} + \frac{1}{4} + \frac{1}{4} + \frac{1}{4} + \frac{1}{4} + \frac{1}{4} + \frac{1}{4} + \frac{1}{4} + \frac{1}{4} =$ $\left(\frac{1}{4} \times 9 = \frac{9}{4}\right)$
---	-----------------	------------------	-----	---