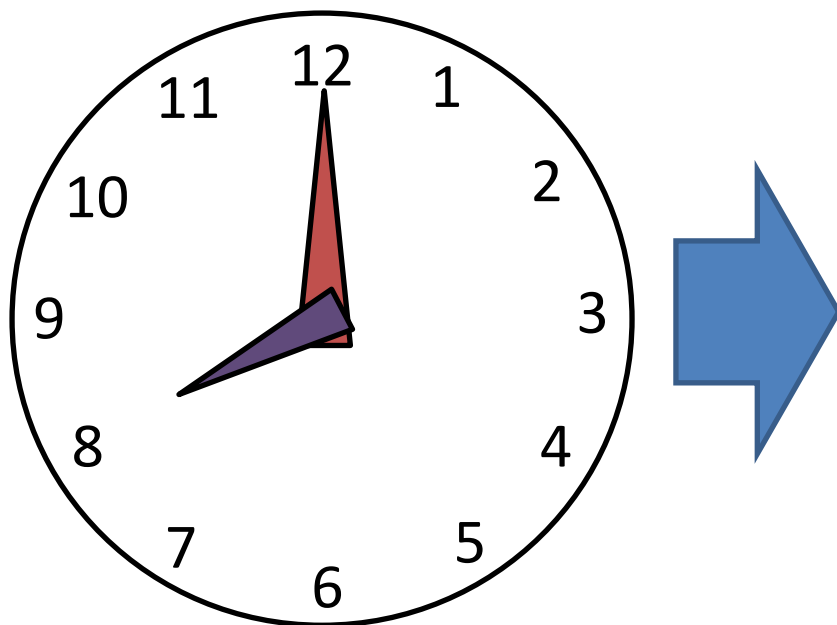


時間と時刻 基本-1

小1	◎	小3	○	小5	
小2	◎	小4	○	小6	

な	組	番
ま		
え		

下の時計は8時丁度を指しています。ではこの30分後は何時何分でしょうか、矢印の右側に出来るだけ正確な時計を描いてみましょう。



時間をかけて、丁寧に描くべし！

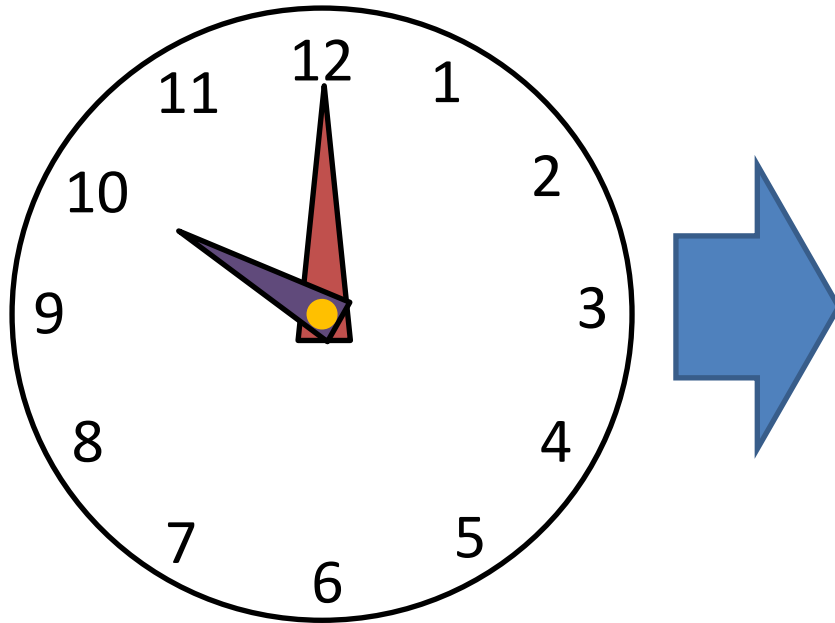
答	式 (式は答を出してから立てます)
---	-------------------

時間と時刻 基本-2

小1	◎	小3	○	小5	
小2	◎	小4	○	小6	

な	組	番
ま		
え		

下の時計は10時丁度を指しています。ではこの2時間30分前は何時何分でしょうか、矢印の右側に出来るだけ正確な時計を描いてみましょう。



時間をかけて、丁寧に描くべし！

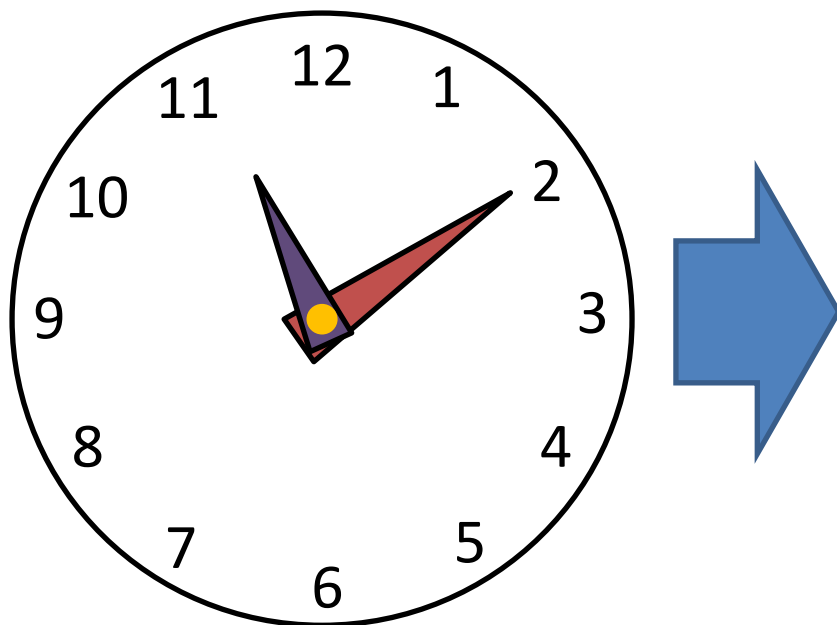
答	式 (式は答を出してから立てます)
---	-------------------

時間と時刻 基本-3

小1	◎	小3	○	小5	
小2	◎	小4	○	小6	

な ま え	組	番
-------------	---	---

下の時計は11時10分を指しています。ではこの28分前は何時何分でしょうか、矢印の右側に出来るだけ正確な時計を描いてみましょう。



時間をかけて、丁寧に描くべし！

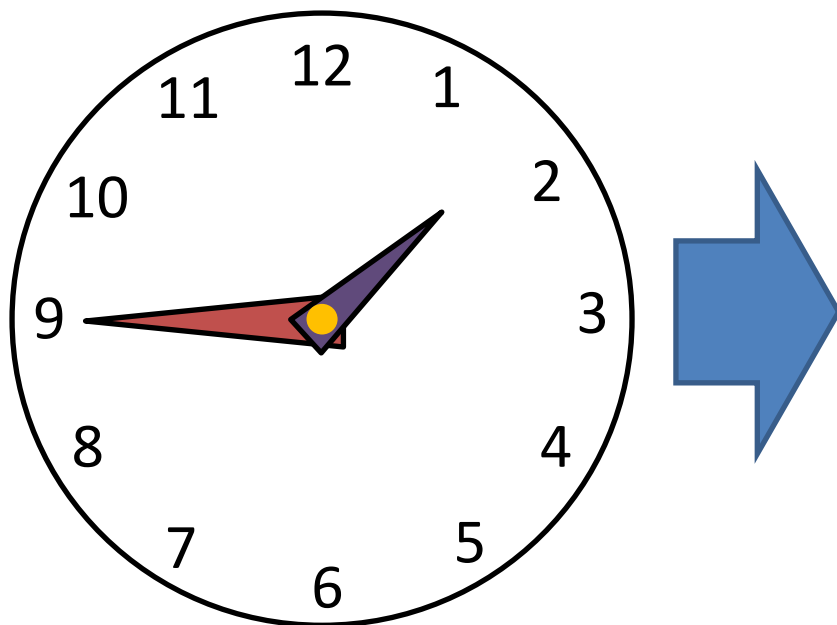
答	式 (式は答を出してから立てます)
---	-------------------

時間と時刻 基本-4

小1	◎	小3	○	小5	
小2	◎	小4	○	小6	

な ま え	組	番
-------------	---	---

下の時計は1時45分を指しています。ではこの1時間26分後は何時何分でしょうか、矢印の右側に出来るだけ正確な時計を描いてみましょう。



時間をかけて、丁寧に描くべし！

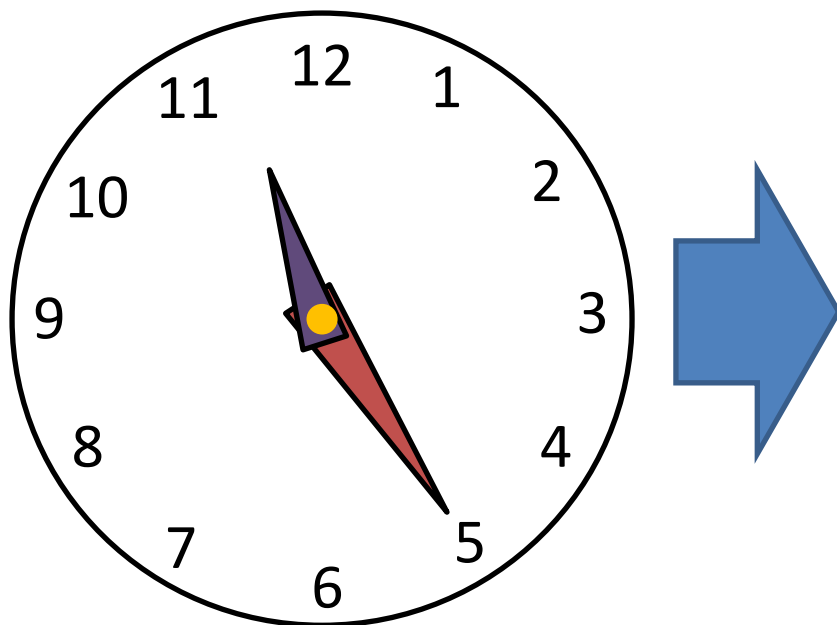
答	式 (式は答を出してから立てます)
---	-------------------

時間と時刻 基本-5

小1	◎	小3	○	小5	
小2	◎	小4	○	小6	

な	組	番
ま		
え		

下の時計は11時25分を指しています。ではこの120分前は何時何分でしょうか、矢印の右側に出来るだけ正確な時計を描いてみましょう。



時間をかけて、丁寧に描くべし！

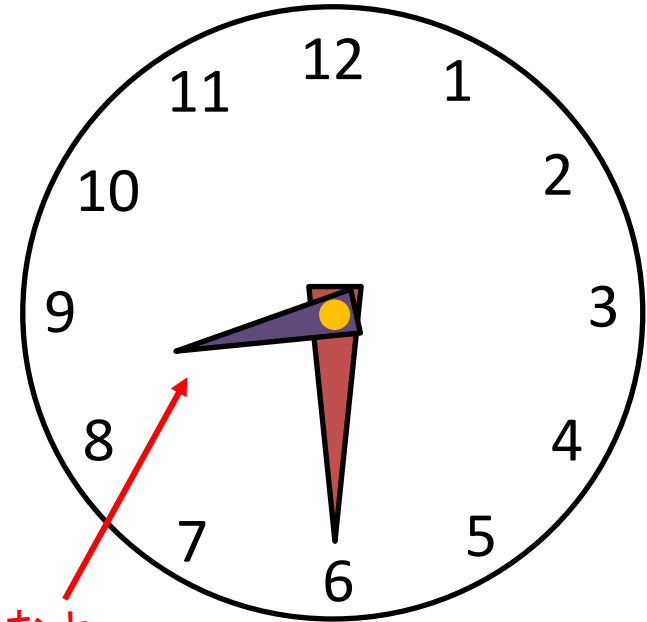

答	式 (式は答を出してから立てます)

時間と時刻 基本-1

小1	◎	小3	○	小5	
小2	◎	小4	○	小6	

な	組	番
ま		
え		

下の時計は8時丁度を指しています。ではこの30分後は何時何分でしょうか、矢印の右側に出来るだけ正確な時計を描いてみましょう。



短い針も進むよ

時間をかけて、丁寧に描くべし！

答

8時30分

式

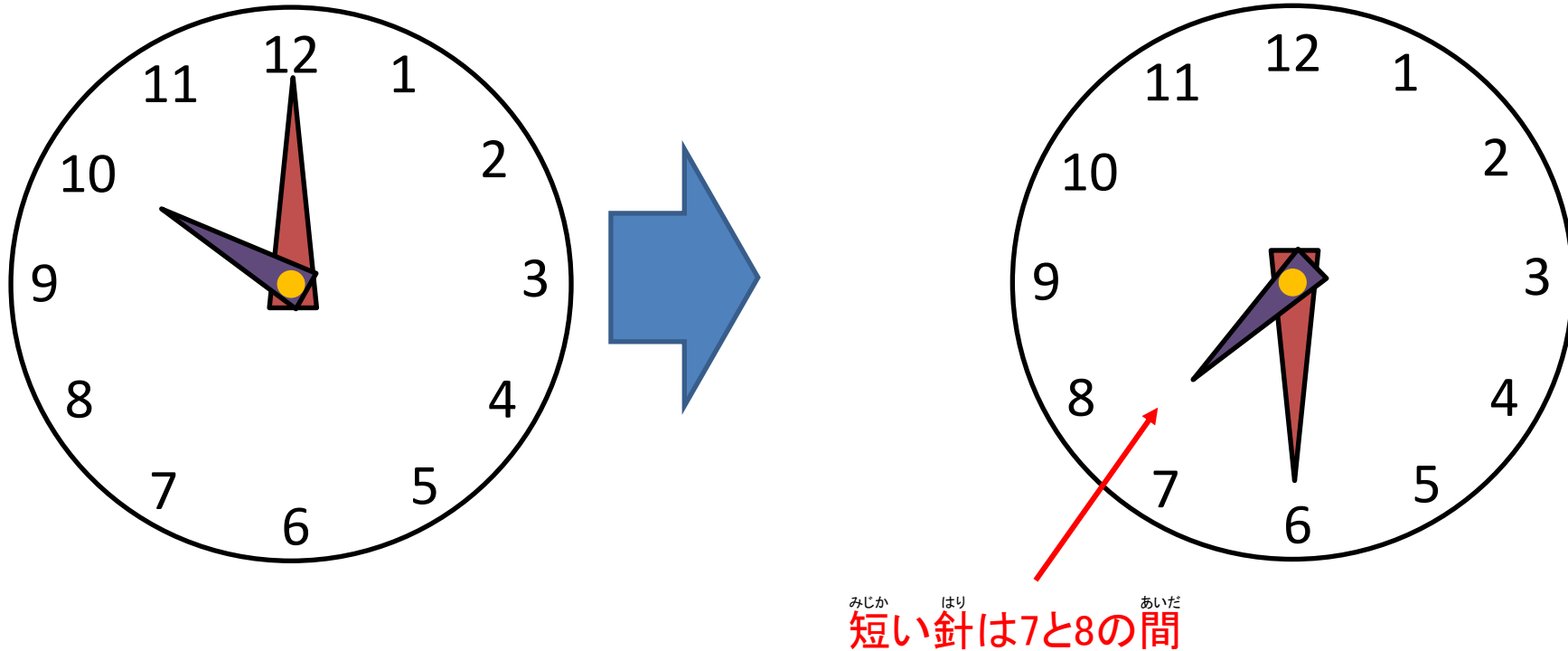
(式は答を出してから立てます)

時間と時刻 基本-2

小1	◎	小3	○	小5	
小2	◎	小4	○	小6	

な	組	番
ま		
え		

下の時計は10時丁度を指しています。ではこの2時間30分前は何時何分でしょうか、矢印の右側に出来るだけ正確な時計を描いてみましょう。



時間をかけて、丁寧に描くべし！

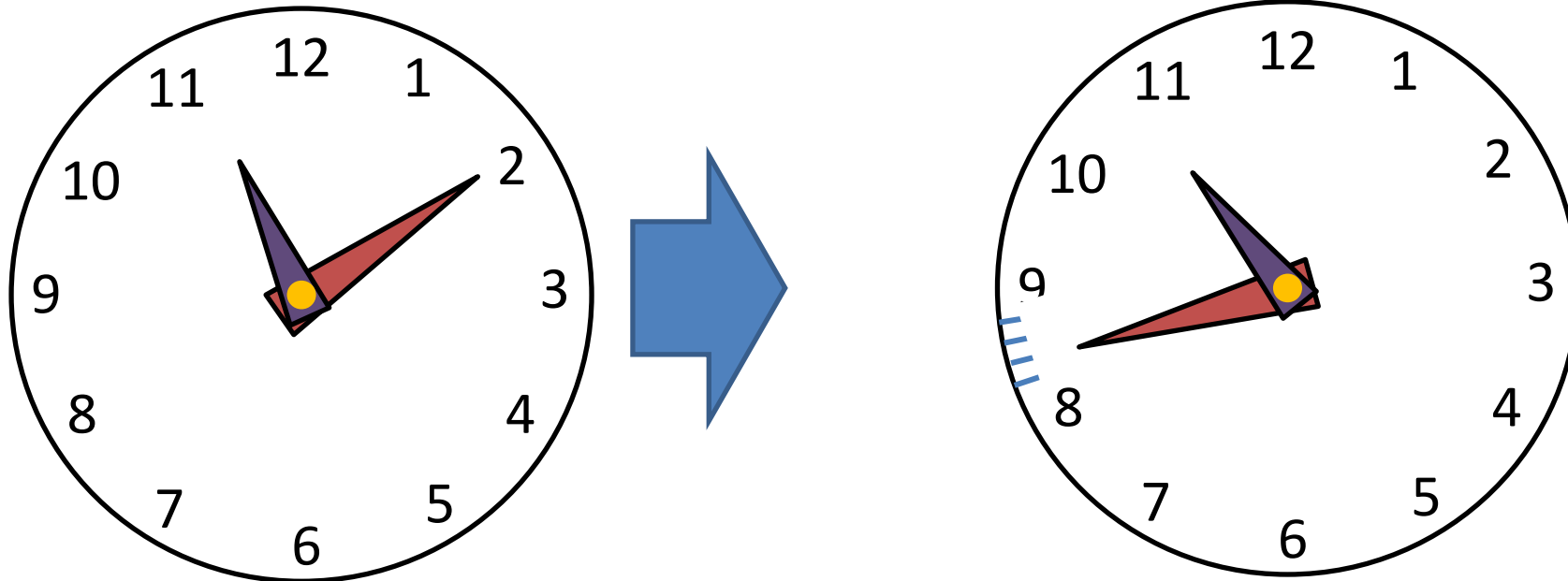
答	7時30分	式 (式は答を出してから立てます)
---	-------	-------------------

時間と時刻 基本-3

小1	◎	小3	○	小5	
小2	◎	小4	○	小6	

な	組	番
ま		
え		

下の時計は11時10分を指しています。ではこの28分前は何時何分でしょうか、矢印の右側に出来るだけ正確な時計を描いてみましょう。



時間をかけて、丁寧に描くべし！

答

10時42分

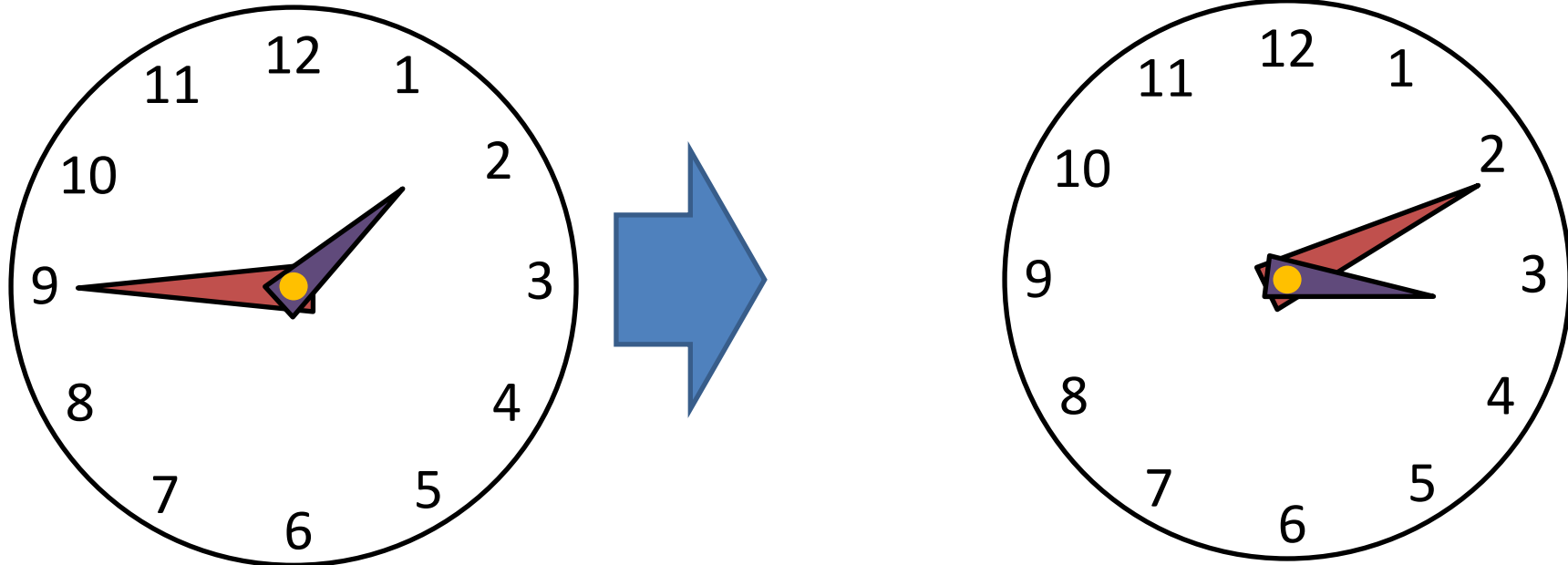
式 (式は答を出してから立てます)

時間と時刻 基本-4

小1	◎	小3	○	小5	
小2	◎	小4	○	小6	

な ま え	組	番
-------------	---	---

下の時計は1時45分を指しています。ではこの1時間26分後は何時何分でしょうか、矢印の右側に出来るだけ正確な時計を描いてみましょう。



時間をかけて、丁寧に描くべし！

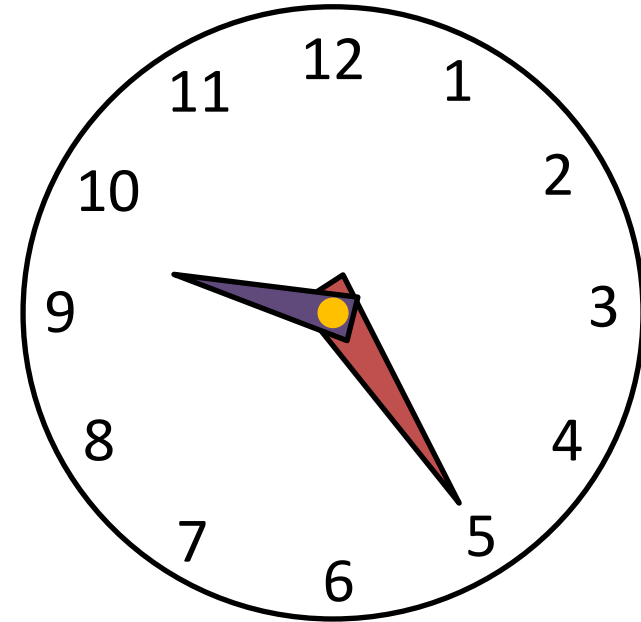

答	3時11分	式 (式は答を出してから立てます)
---	-------	-------------------

時間と時刻 基本-5

小1	◎	小3	○	小5	
小2	◎	小4	○	小6	

な ま え	組	番
-------------	---	---

下の時計は11時25分を指しています。ではこの120分前は何時何分でしょうか、矢印の右側に出来るだけ正確な時計を描いてみましょう。



時間をかけて、丁寧に描くべし！

答

9時25分

式 (式は答を出してから立てます)