

たし算・ひき算 基本-1

小1	◎	小3		小5	
小2	○	小4		小6	

な ま え	組	番
-------------	---	---

きょう かつぱ ひ
今日は河童たちのピクニックの日です。河童のケロンタ君のお弁当箱には胡瓜が7本入っていました。お友だちの綾乃ちゃんのお弁当箱には胡瓜が6本入っています。ふたり きゅうり あ なんぼん
2人の胡瓜を合わせると何本になるでしょうか。絵図を描いて求めましょう。

すうじ しき か
数字も式も書かずに、
えず こた さが
絵図だけで答えを探すべし！

答	式 (式は答を出してから立てます)
---	-------------------

たし算・ひき算 基本-2

小1	◎	小3		小5	
小2	○	小4		小6	

な ま え	組	番
-------------	---	---

おりがみだいす ようちえんじ 折紙大好き幼稚園児のパーちゃんは白いおりがみを9枚持っています。お友だちのパーちゃんは白いおりがみを6枚持っています。どちらが何枚多くおりがみを持っているでしょうか。絵を描いて多い分の折紙を赤く塗ってみましょう。

すうじ しき か
数字も式も書かずに、
えず こた さが
絵図だけで答えを探すべし！

答	式 (式は答を出してから立てます)
---	-------------------

たし算・ひき算 基本-3

小1	◎	小3		小5	
小2	○	小4		小6	

な ま え	組	番
-------------	---	---

秋の遠足でどんぐり拾いをしました。ねずみさんは細長いどんぐりを4こ、りすさんはまんまるどんぐりを6こ、うさぎさんは大きなどんぐりを5こ拾いました。りすさんは拾ったどんぐりをこっそり埋めてしまいました。ねずみさんとうさぎさんがひろったどんぐりを全部合わせたらいくつになるでしょう。絵図を描いて求めましょう。

数字も式も書かずに、
絵図だけで答えを探すべし！

答	式 (式は答を出してから立てます)
---	-------------------

たし算・ひき算 基本-4

小1	◎	小3		小5	
小2	○	小4		小6	

な ま え	組	番
-------------	---	---

10匹の蟻さんが1列に並んで歩いています。美味しいにおいがして来たので2匹の蟻さんが列から離れて匂いの方へ歩いていきました。蟻さんの列は何匹になったでしょうか。絵図を描いて求めましょう。

数字も式も書かずに、
絵図だけで答えを探せ！

答	式 (式は答を出してから立てます)
---	-------------------

たし算・ひき算 基本-5

小1	◎	小3		小5	
小2	○	小4		小6	

な ま え	組	番
-------------	---	---

浦島太郎と次郎の兄弟がイカを釣りに海にやってきました。太郎は14匹釣りました。次郎は21匹つりました。次郎は太郎より何匹多くイカを釣ったでしょうか。絵図を描いて求めましょう。

数字も式も書かずに、
絵図だけで答えを探すべし！

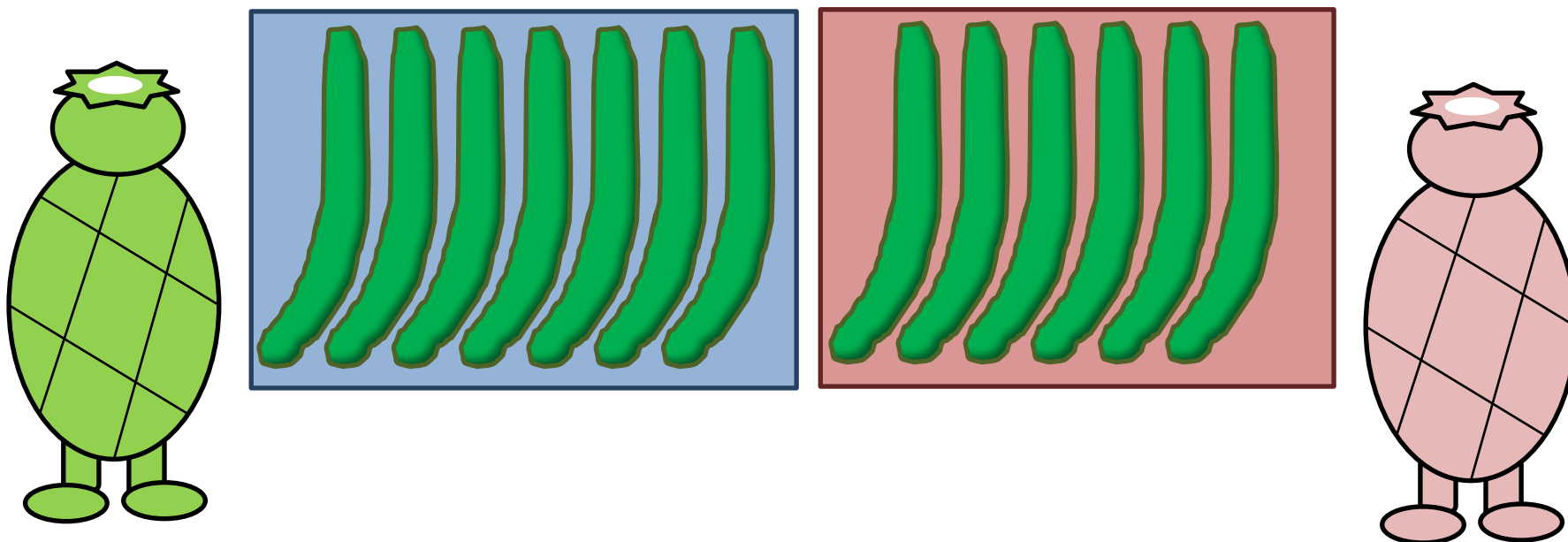
答	式 (式は答を出してから立てます)
---	-------------------

たし算・ひき算 基本-1

小1	◎	小3		小5	
小2	○	小4		小6	

な ま え	組	番
-------------	---	---

きょう かつぱ 河童たちのピクニックの日です。かつぱ 河童のケロンタ君のお弁当箱にはきゅうり 胡瓜が7本入っていました。お友だちのあやの 綾乃ちゃんのお弁当箱にはきゅうり 胡瓜が6本入っています。ふたり きゅうり あ 2人の胡瓜を合わせるとなんぼん 何本になるでしょうか。絵図を描いてもと 求めましょう。



すうじ 数字もしき 式もか 書かずに、
えず 絵図だけでこた 答えをさが 探すべし！



答	13本	式 例 $7+6=13$
---	-----	--------------

たし算・ひき算 基本-2

小1	◎	小3		小5	
小2	○	小4		小6	

な ま え	組	番
-------------	---	---

おりがみだいす ようちえんじ 折紙大好き幼稚園のパーちゃんはしろいおりがみを9まいもっています。お友だちのパーちゃんはしろいおりがみを6まいもっています。どちらがなんまいもおりがみをもっているでしょうか。絵を描いて多い分の折紙をあかく塗ってみましょう。



すうじ しき か
数字も式も書かずに、
えず こた さが
絵図だけで答えを探すべし！

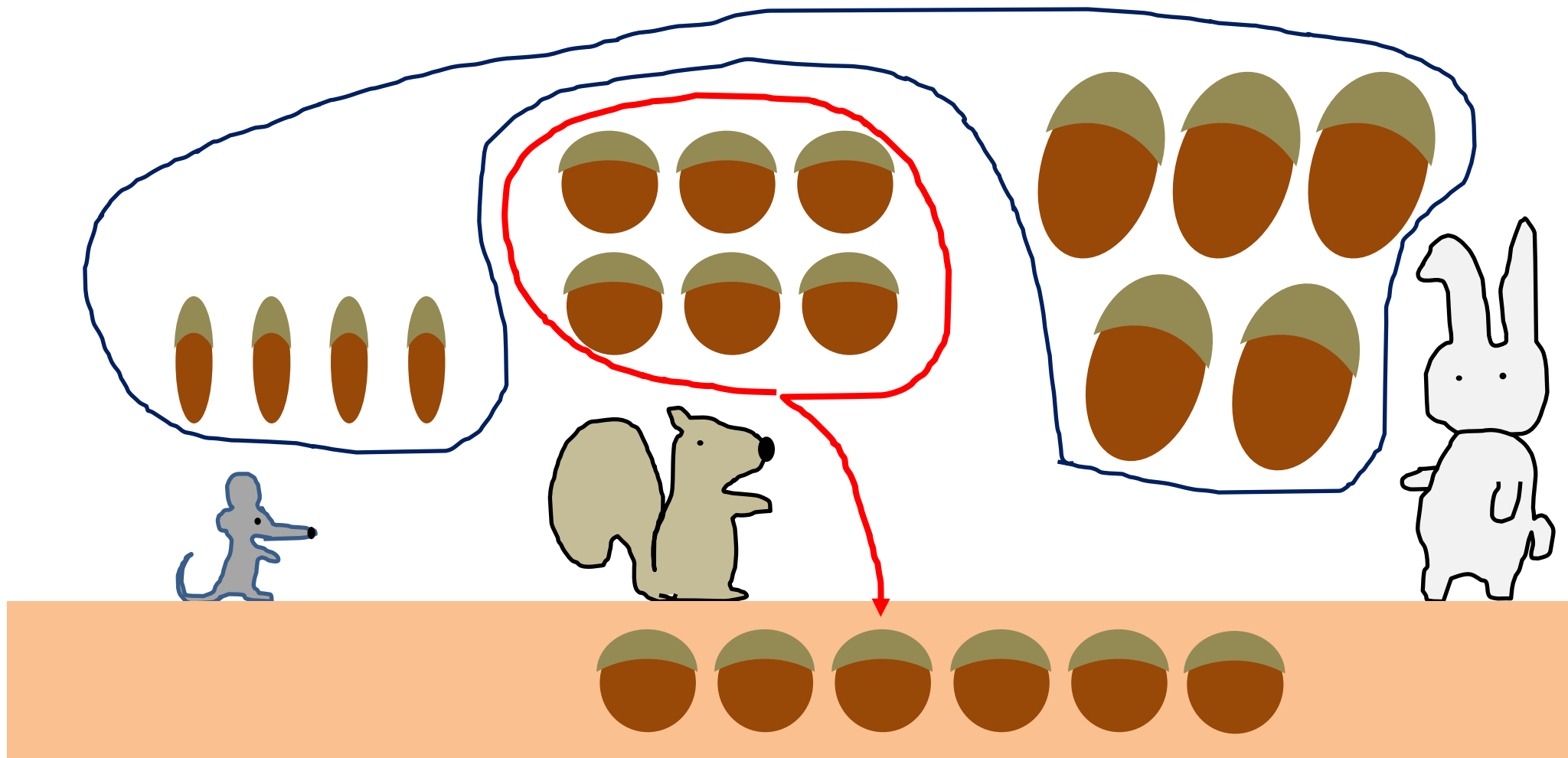
答	パーちゃんが 3まいおおく	式 例 $9-3=6$
---	------------------	-------------

たし算・ひき算 基本-3

小1	◎	小3		小5	
小2	○	小4		小6	

な ま え	組	番
-------------	---	---

秋の遠足でどんぐり拾いをしました。ねずみさんは細長いどんぐりを4こ、りすさんはまんまるどんぐりを6こ、うさぎさんは大きなどんぐりを5こ拾いました。りすさんは拾ったどんぐりをこっそり埋めてしまいました。ねずみさんとうさぎさんがひろったどんぐりを全部合わせたら何こになるでしょうか。絵図を描いて求めましょう。



数字も式も書かずに、
絵図だけで答えを探すべし！

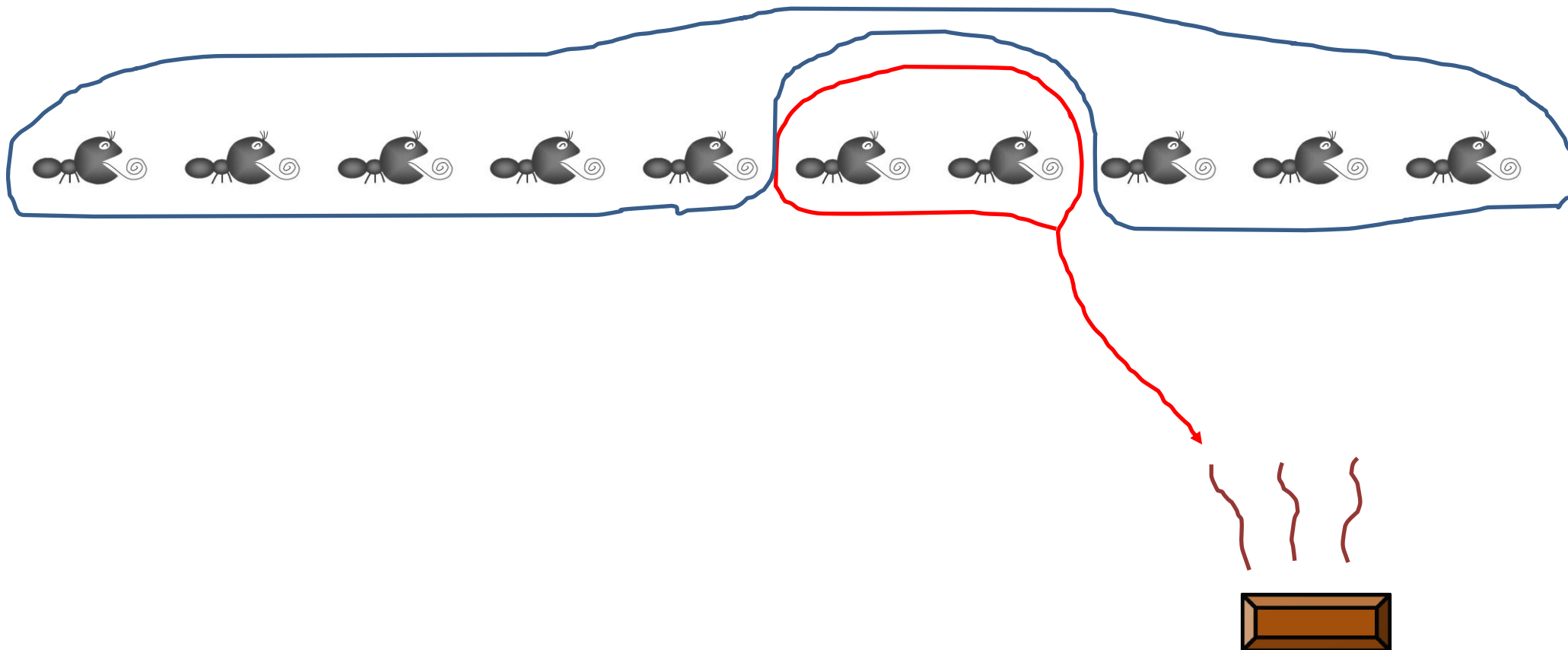
答	9こ	式 例 $4+5=9$
---	----	-------------

たし算・ひき算 基本-4

小1	◎	小3		小5	
小2	○	小4		小6	

な ま え	組	番
-------------	---	---

10匹の蟻さんが1列に並んで歩いています。美味しいにおいがして来たので2匹の蟻さんが列から離れて匂いの方へ歩いていきました。蟻さんの列は何匹になったでしょうか。絵図を描いて求めましょう。



数字も式も書かずに、
絵図だけで答えを探すべし！

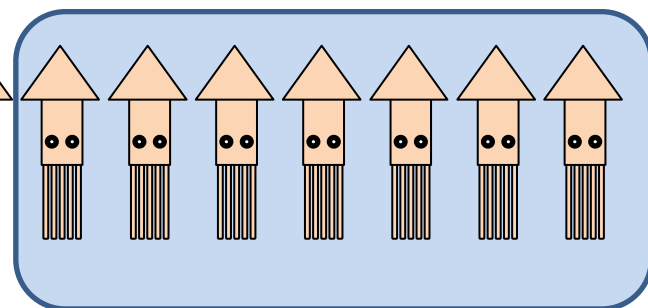
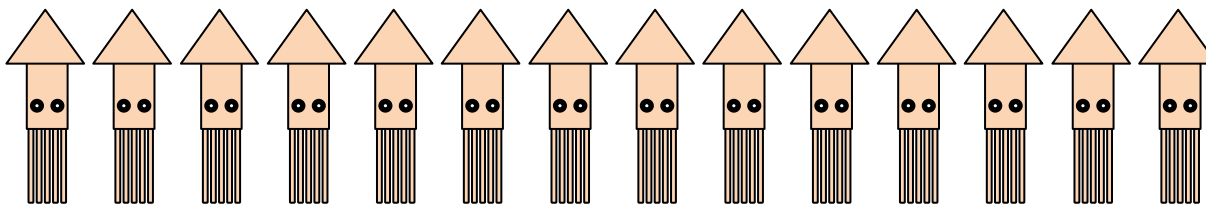

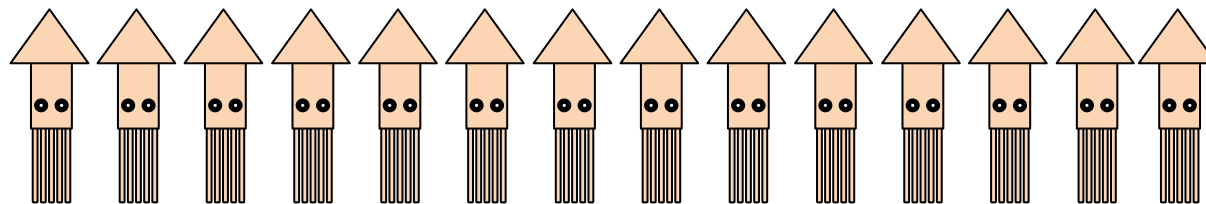
答	8ひき	式 例 $10-2=8$
---	-----	--------------

たし算・ひき算 基本-5

小1	◎	小3		小5	
小2	○	小4		小6	

な ま え	組	番
-------------	---	---

浦島太郎と次郎の兄弟がイカを釣りに海にやってきました。太郎は14匹釣りました。次郎は21匹つりました。次郎は太郎より何匹多くイカを釣ったでしょうか。絵図を描いて求めましょう。



数字も式も書かずに、
絵図だけで答えを探しべし！

答	7匹	式 例 $21-14=7$
---	----	---------------