

たし算・ひき算 6

小1	◎	小3	△	小5	
小2	◎	小4		小6	

な ま え	組	番
-------------	---	---

ぼうけんまつり じゅんび たからぼこ こようい たからぼこ かなら ちい ぶくろ 3つずつ い ちい ぶくろ かなら ひか いし つぶ 2粒ずつ い
冒険祭の準備で宝箱を5個用意しました。宝箱には必ず小さな袋を3つずつ入れます。その小さな袋には必ず光る石を2粒ずつ入れます。
ひか いし ぜんぶ なんつぶひつよう えず か もと
光る石は全部で何粒必要でしょうか。絵図を描いて求めましょう。

すべ えず
全て絵図にして答えを出すべし！

答	式 (式は答を出してから立てます)
---	-------------------

たし算・ひき算 7

小1	◎	小3	△	小5	
小2	◎	小4		小6	

な ま え	組	番
-------------	---	---

鱈のアリゲタ君はかっこいい帽子を蛇のスネーク君より3こ多く持っています。アリゲタ君が持っているかっこいい帽子は7こです。アリゲタ君とスネーク君が持っているかっこいい帽子をあわせてなんこでしょう。絵図を描いて求めましょう。

計算せずに、絵図だけで答えを出すべし！

答	式（式は答を出してから立てます）
---	------------------

たし算・ひき算 8

小1	◎	小3	△	小5	
小2	◎	小4		小6	

な ま え	組	番
-------------	---	---

天狗てんぐの小太郎こたろうの趣味しゅみはうちわうちわを集めるあつことです。あと2つ集めればお父さんとうと同じ数おな かずになります。

お父さんとうの持っているうちわもが8枚まいだとすると、小太郎こたろうとお父さんとうが持っているうちわもをあわせて何枚なんまいでしょうか。

絵図えずを描いて求めかましょう。

計算けいさんせずに、絵図えずだけで答えこたを出だすべし！

答	式 (式は答を出してから立てます)
---	-------------------

たし算・ひき算 9

小1	◎	小3	△	小5	
小2	◎	小4		小6	

な ま え	組	番
-------------	---	---

子どもたちの間でダンゴ虫をペットにするのが流行っています。ことちゃんとまあちゃんもダンゴ虫を飼いはじめました。二人は合わせて28匹のダンゴ虫を飼っていて、ことちゃんのほうがまあちゃんより6匹少ないそうです。まあちゃんの飼っているダンゴ虫は何匹でしょうか。絵図を描いて求めましょう。

計算せずに、絵図だけで答えを出すべし！

答	式 (式は答を出してから立てます)
---	-------------------

たし算・ひき算 10

小1	◎	小3	△	小5	
小2	◎	小4		小6	

な ま え	組	番
-------------	---	---

今日は嬉しいお正月です！カタツムリのスネイル君は、お父さんから2000円もらい、お母さんからは1500円もらいました。お祖父ちゃんとお祖母ちゃんからも1200円ずつもらいました。さらに親戚の叔父さんからももらったので全部で7000円になりました。叔父さんからもらったのはいくらでしょうか。絵図を描いて求めましょう。

計算せずに、絵図だけで答えを出すべし！

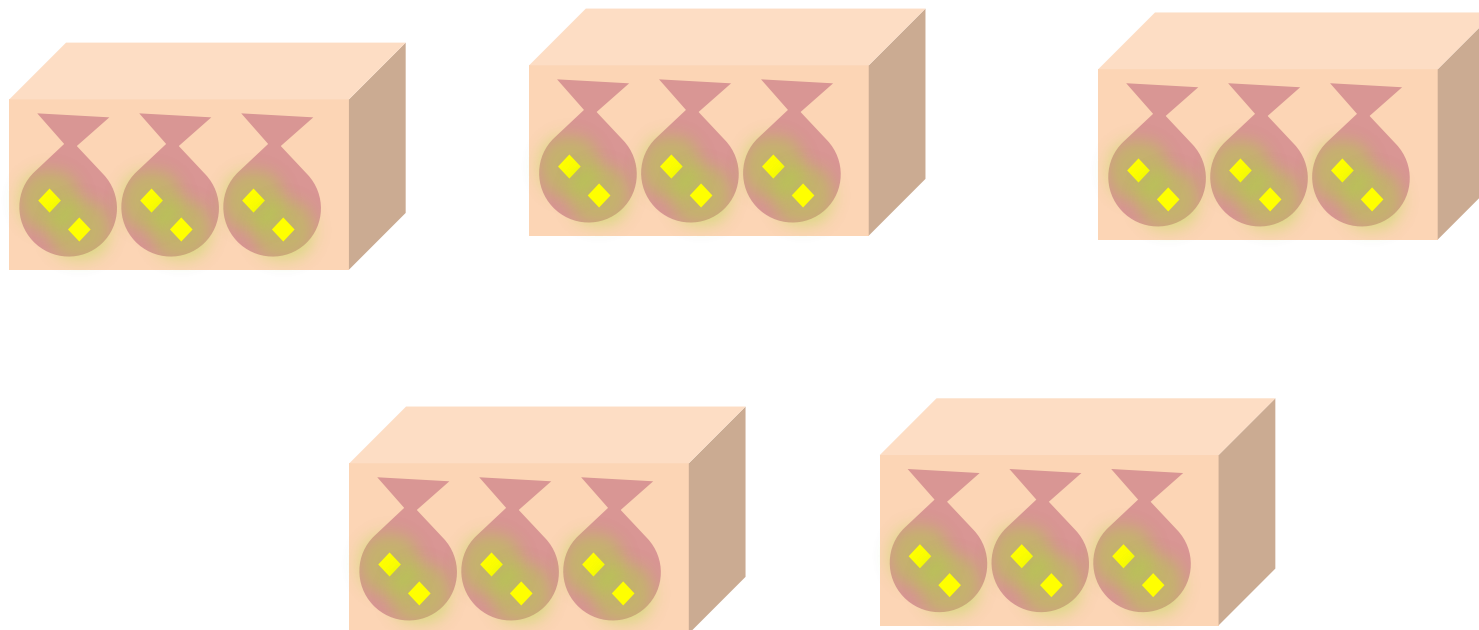
答	式（式は答を出してから立てます）
---	------------------

たし算・ひき算 6

小1	◎	小3	△	小5	
小2	◎	小4		小6	

な ま え	組	番
-------------	---	---

ぼうけんまつり じゆんび たからぼこ こようい たからぼこ かなら ちい ぶくろ
 冒険祭の準備で宝箱を5個用意しました。宝箱には必ず小さな袋を3つずつ入れます。その小さな袋には必ず光る石を2粒ずつ入れます。
 ひか いし ぜんぶ なんつぷひつよう えす か もと
 光る石は全部で何粒必要でしょうか。絵図を描いて求めましょう。



すべ えす だ
 全て絵図にして答えを出すべし！

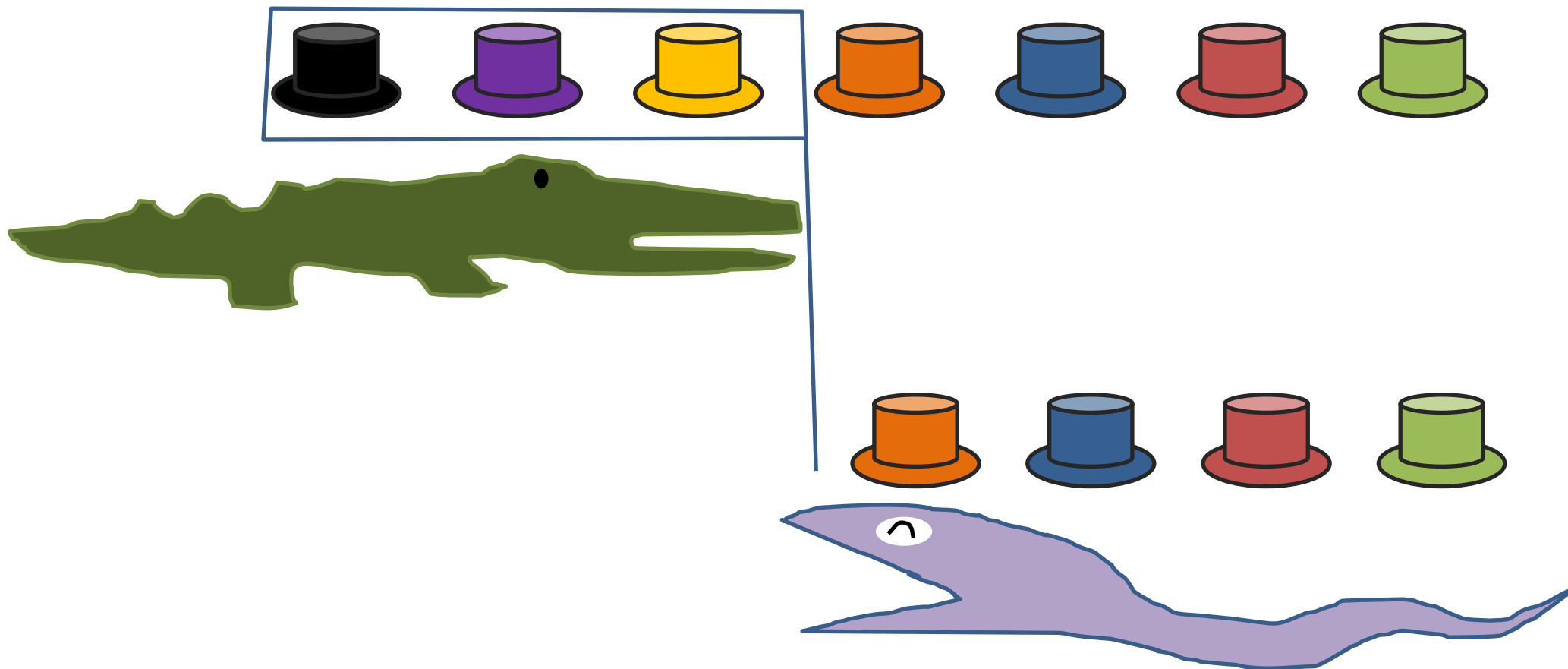
答	30こ	式 例 $2+2+2=6$ 、 $6+6+6+6+6=30$
---	-----	--------------------------------

たし算・ひき算 7

小1	◎	小3	△	小5	
小2	◎	小4		小6	

な ま え	組	番
-------------	---	---

鱈のアリゲタ君はかっこいい帽子を蛇のスネーク君より3こ多く持っています。アリゲタ君が持っているかっこいい帽子は7こです。アリゲタ君とスネーク君が持っているかっこいい帽子をあわせてなんこでしょう。絵図を描いて求めましょう。



計算せずに、絵図だけで答えを出すべし！










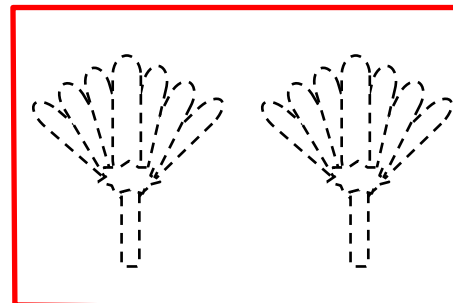







答	11こ	式例 $7-3=4$ 、 $7+4=11$
---	-----	-----------------------

たし算・ひき算 8

小1	◎	小3	△	小5	
小2	◎	小4		小6	

な ま え	組	番
-------------	---	---

天狗てんぐのこ太郎たろうの趣味しゅみはうちわあつを集めることです。あと2つ集めればお父さんとうと同じ数おな かずになります。
 お父さんとうの持っているうちわまいが8枚だとすると、小太郎こたろうとお父さんとうが持っているうちわはあわせて何枚なんまいでしょうか。
 絵図えずを描いて求めもとましょう。



計算けいさんせずに、絵図えずだけで答えたを出だすべし！

答	14枚 <small>まい</small>	式 例 $8-2=6$ 、 $6+8=14$
---	-----------------------	------------------------

たし算・ひき算 9

小1	◎	小3	△	小5	
小2	◎	小4		小6	

な	組	番
ま		
え		

子どもたちの間でダンゴ虫をペットにするのが流行っています。ことちゃんとまあちゃんもダンゴ虫を飼いはじめました。二人は合わせて28匹のダンゴ虫を飼っていて、ことちゃんのほうがまあちゃんより6匹少ないそうです。まあちゃんの飼っているダンゴ虫は何匹でしょうか。絵図を描いて求めましょう。

ことちゃん

まあちゃん

計算を絵図にせず、絵図だけ考えて答えを出すと、だからわからないとながめていないで絵をかくべし！

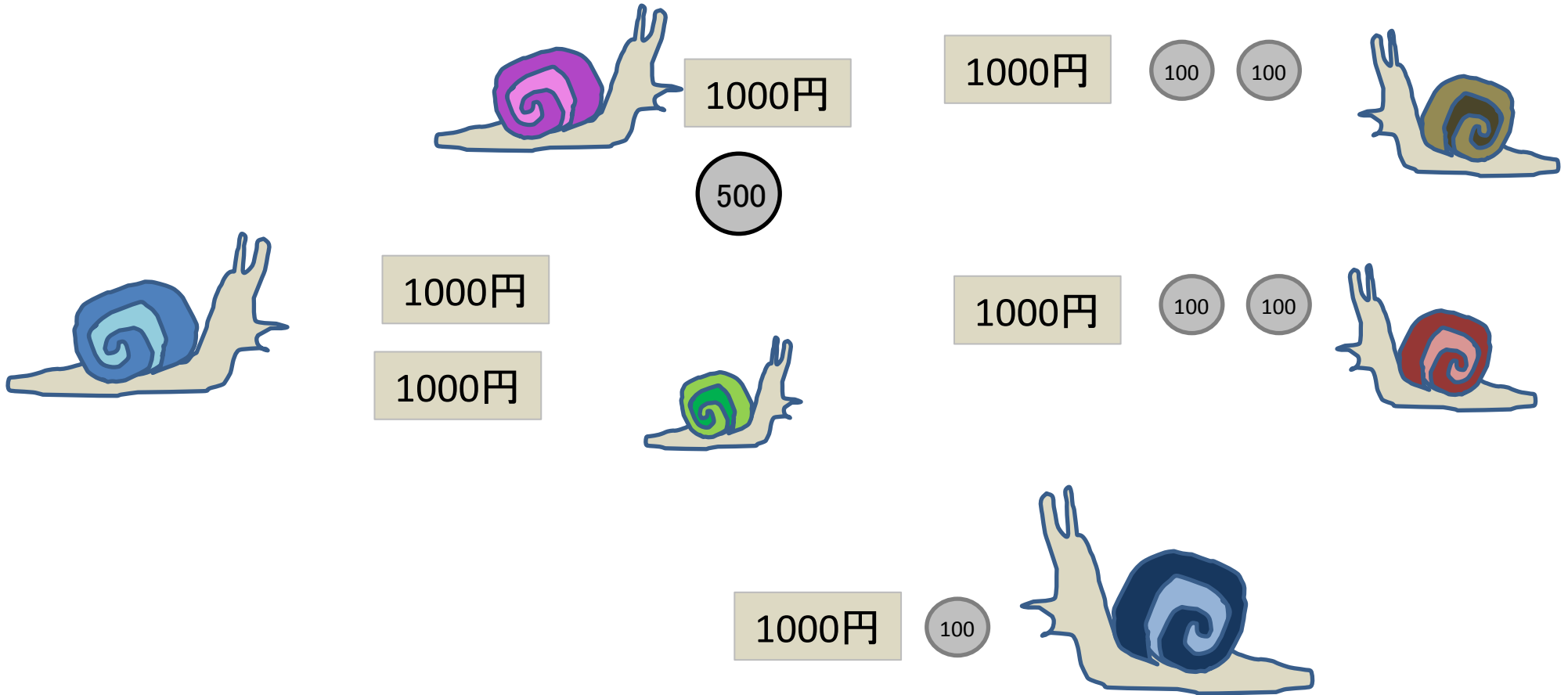
答	17匹	式例 $28 - 6 = 22$ 、 $22 \div 2 = 11$ 、 $11 + 6 = 17$ 式は小1、小2が立てる必要はありません。
---	-----	--

たし算・ひき算 10

小1	◎	小3	△	小5	
小2	◎	小4		小6	

な	組	番
ま		
え		

今日は嬉しいお正月です！カタツムリのスネイル君は、お父さんから2000円もらい、お母さんからは1500円もらいました。お祖父ちゃんとお祖母ちゃんからも1200円ずつもらいました。さらに親戚の叔父さんからももらったので全部で7000円になりました。叔父さんからもらったのはいくらでしょうか。絵図を描いて求めましょう。



計算せずに、絵図だけで答えを出すべし！

答	1100円	式 例 $2000+1500+1200+1200=5900$ $7000-5900=1100$
---	-------	--