

たし算・ひき算 1

小1	◎	小3	△	小5	
小2	◎	小4		小6	

な ま え	組	番
-------------	---	---

昨日、うっかり者のりすさんがどんぐりを9個埋めました。今日は3人のお友達と一緒に5個のどんぐりを埋めるつもりです。そうすると今日と昨日でいくつのどんぐりを埋めることになりますか。絵図を描いて求めましょう。

絵図だけで答えを探すべし！

答	式 (式は答を出してから立てます)
---	-------------------

たし算・ひき算 2

小1	◎	小3	△	小5	
小2	◎	小4		小6	

な ま え	組	番
-------------	---	---

きょうのおやつは世にも珍しい虹色まんじゅうです。8個食べたので残りは5個になりました。
食べる前、虹色まんじゅうは何個あったでしょうか。絵図を描いて求めましょう。

ことば すべ え
言葉を全て絵にすべし！

答	式 (式は答を出してから立てます)
---	-------------------

たし算・ひき算 2

小1	◎	小3	△	小5	
小2	◎	小4		小6	

な ま え	組	番
-------------	---	---

ピカリちゃんの宝箱の中には赤く光る石と青く光る石が入っています。青く光る石は6個で赤く光る石と合わせると15個あります。赤く光る石は全部で何個あるでしょうか。絵図を描いて求めましょう。

わかるとは絵にできること！

答	式 (式は答を出してから立てます)
---	-------------------

たし算・ひき算 4

小1		小3		小5	
小2		小4		小6	

な ま え	組	番
-------------	---	---

しっかりくんは毎日40円おこづかいをもらえます。1週間、1円も使わずにいたら何円貯まるでしょうか。
絵図を描いて求めましょう。

わからないと言わず、絵を描くべし！

答	式 (式は答を出してから立てます)
---	-------------------

たし算・ひき算 5

小1	◎	小3	△	小5	
小2	◎	小4		小6	

な ま え	組	番
-------------	---	---

子どもたちの間でダンゴ虫をペットにするのが流行っています。ひろあき君はきよはる君より6匹多くダンゴ虫を飼っていて、2人の飼っているダンゴ虫は合わせて20匹です。きよはる君が飼っているダンゴ虫は何匹でしょうか。絵図を描いて求めましょう。

ゆっくり、丁寧に！


答	式 (式は答を出してから立てます)
---	-------------------

たし算・ひき算 1

小1	◎	小3	△	小5	
小2	◎	小4		小6	

な ま え	組	番
-------------	---	---

きのう、うっかり者のりすさんがどんぐりを9個埋めました。今日は3人のお友達と一緒に5個のどんぐりを埋めるつもりです。そうすると今日と昨日でいくつのどんぐりを埋めることになりますか。絵図を描いて求めましょう。



え
ず
絵図だけで答えを探さべし！

答

14こ

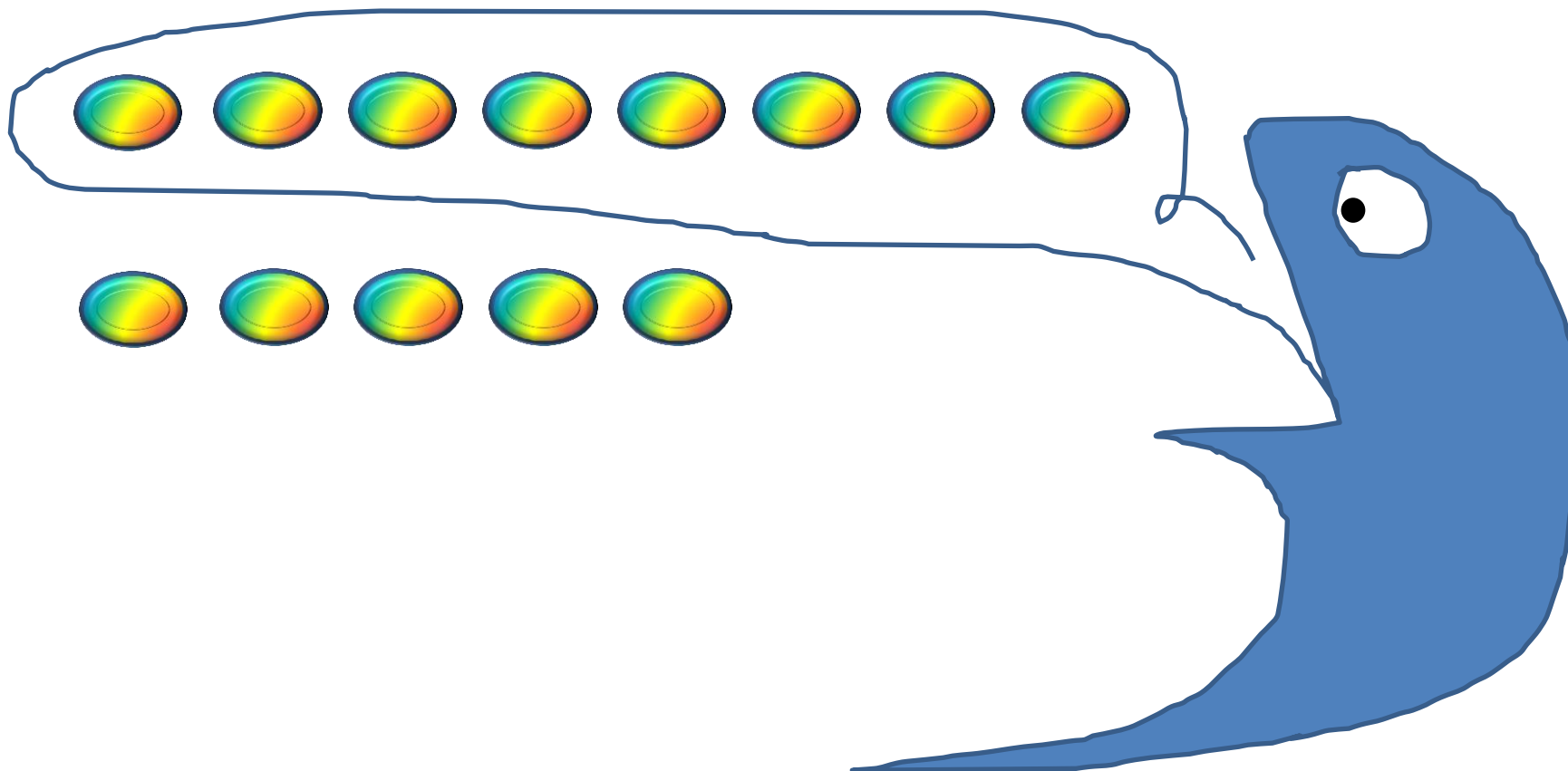
式 例 $9+5=14$

たし算・ひき算 2

小1	◎	小3	△	小5	
小2	◎	小4		小6	

な ま え	組	番
-------------	---	---

きょうのおやつは世にも珍しい虹色まんじゅうです。8個食べたので残りは5個になりました。
食べる前、虹色まんじゅうは何個あったでしょうか。絵図を描いて求めましょう。



ことばをすべて絵にすべし！

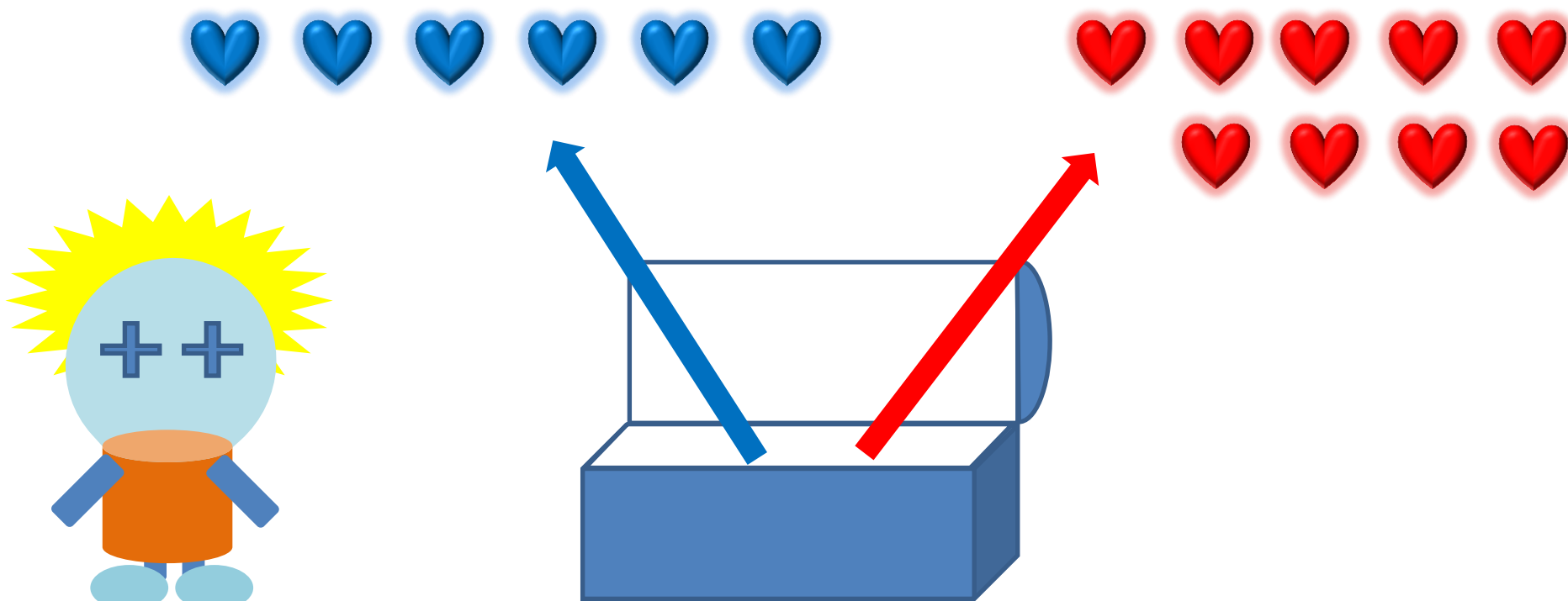
答	13こ	式 例 $8+5=13$
---	-----	--------------

たし算・ひき算 3

小1	◎	小3	△	小5	
小2	◎	小4		小6	

な ま え	組	番
-------------	---	---

ピカリちゃんの宝箱の中には赤く光る石と青く光る石が入っています。青く光る石は6個で赤く光る石と合わせると15個あります。赤く光る石は全部で何個あるでしょうか。絵図を描いて求めましょう。



わかるとは絵にできること！

答	9こ	式 例 $15 - 6 = 13$
---	----	-------------------

たし算・ひき算 4

小1		小3		小5	
小2		小4		小6	

な ま え	組	番
-------------	---	---

しっかりくんは毎日40円おこづかいをもらえます。1週間、1円も使わずにいたら何円貯まるでしょうか。
絵図を描いて求めましょう。



日	月	火	水	木	金	土
10	10	10	10	10	10	10
10	10	10	10	10	10	10
10	10	10	10	10	10	10
10	10	10	10	10	10	10

わからないと言わず、絵を描くべし！

答	280円	式 例 $40+40+40+40+40+40+40=280$
---	------	--------------------------------

たし算・ひき算 5

小1	◎	小3	△	小5	
小2	◎	小4		小6	

な ま え	組	番
-------------	---	---

子どもたちの間でダンゴ虫をペットにするのが流行っています。ひろあき君はきよはる君より6匹多くダンゴ虫を飼っていて、2人の飼っているダンゴ虫は合わせて20匹です。きよはる君が飼っているダンゴ虫は何匹でしょうか。絵図を描いて求めましょう。

ひ 





き 



ゆっくり、丁寧に！

答	7匹	式例 $20-6=14$ 、 $14\div 2=7$ 式は小1、小2が立てる必要はありません。
---	----	---