

# かけ算 1

小1		小3	○	小5	
小2	◎	小4	△	小6	

な ま え	組	番
-------------	---	---

浦島太郎がタコ釣りに来ました。何と今日は7匹も釣れました。太郎が釣ったタコの足の数は全部で何本でしょうか。  
足の数は、たしかイカは10本タコは8本でしたね。絵図を描いて求めましょう。

わかるとは絵にできること  
かんがえるとはその絵を動かすこと！

答	式 (式は答を出してから立てます)
---	-------------------

# かけ算 2

小1		小3	○	小5	
小2	◎	小4	△	小6	

な ま え	組	番
-------------	---	---

へびのスネーク君が、おとうさん、おかあさん、おじいちゃん、おばあちゃんと一緒にへびイチゴ狩りに来ました。  
へびイチゴ狩りセンターでは、1匹のへびにつき最高10個までへびイチゴを食べてもいいルールになっています。  
スネーク君たち全員では、最高何個へびイチゴを食べることができるか、絵図を描いて求めましょう。

まちが たからもの け  
間違いは宝物、消しゴムを使うべからず！

答	式 (式は答を出してから立てます)
---	-------------------

# かけ算 3

小1		小3	◎	小5	△
小2	○	小4	○	小6	

な ま え	組	番
-------------	---	---

とりのしょうがっこうきょうきゅうしよく  
鳥の小学校の今日の給食のおかずはミニトマトです。ひとりこ  
ひとりこ  
1人3個ずつミニトマトをもらえます。  
と  
と  
飛べない鳥クラスのお友だちは全員で16人です。ミニトマトは全部で何個必要でしょうか。  
せんせい  
せんせい  
先生はお弁当を持ってきているので給食は食べません。えずか  
えずか  
絵図を描いて求めましょう。

すうじ  
数字ではなく、え  
え  
絵そのものでかんが  
かんが  
考えるべし！

答	式 (式は答を出してから立てます)
---	-------------------

# かけ算 4

小1		小3	○	小5	
小2	◎	小4	△	小6	

な ま え	組	番
-------------	---	---

妖怪駄菓子屋の風船くじは、1回30円で風船の中に必ず2こお菓子が入っています。

6回風船くじをひいたら、お菓子は何個手に入るのでしょうか。絵図を描いて求めましょう。

また、6回風船くじを引いたら、何円はらうことになるのでしょうか。こちらも絵図を描いて求めましょう。

ぶんよ  
1文読んだらえにして  
またぶんよ  
1文読んだらえにすべし！

答	式 (式は答を出してから立てます)
---	-------------------

# かけ算 5

小1		小3	◎	小5	△
小2	○	小4	○	小6	

な ま え	組	番
-------------	---	---

ハムリンは、カブトムシを5匹、亀を3匹飼っています。昨日裏山で捕まえた2匹の兎もペットとして飼いました。

ハムリンのお母さんが、「あなたの飼っているペットの足の数を全部あわせたのと同じだけ、チョコバーをあげるわ。何本になるかしら？外れたらあげないわよ！」と言ってきました。ハムリンは何本と言えばチョコバーをもらえるでしょうか。絵図を描いて求めましょう。

「わからない」と言ったら脳は考えを止めていねいに全て絵にすべし！


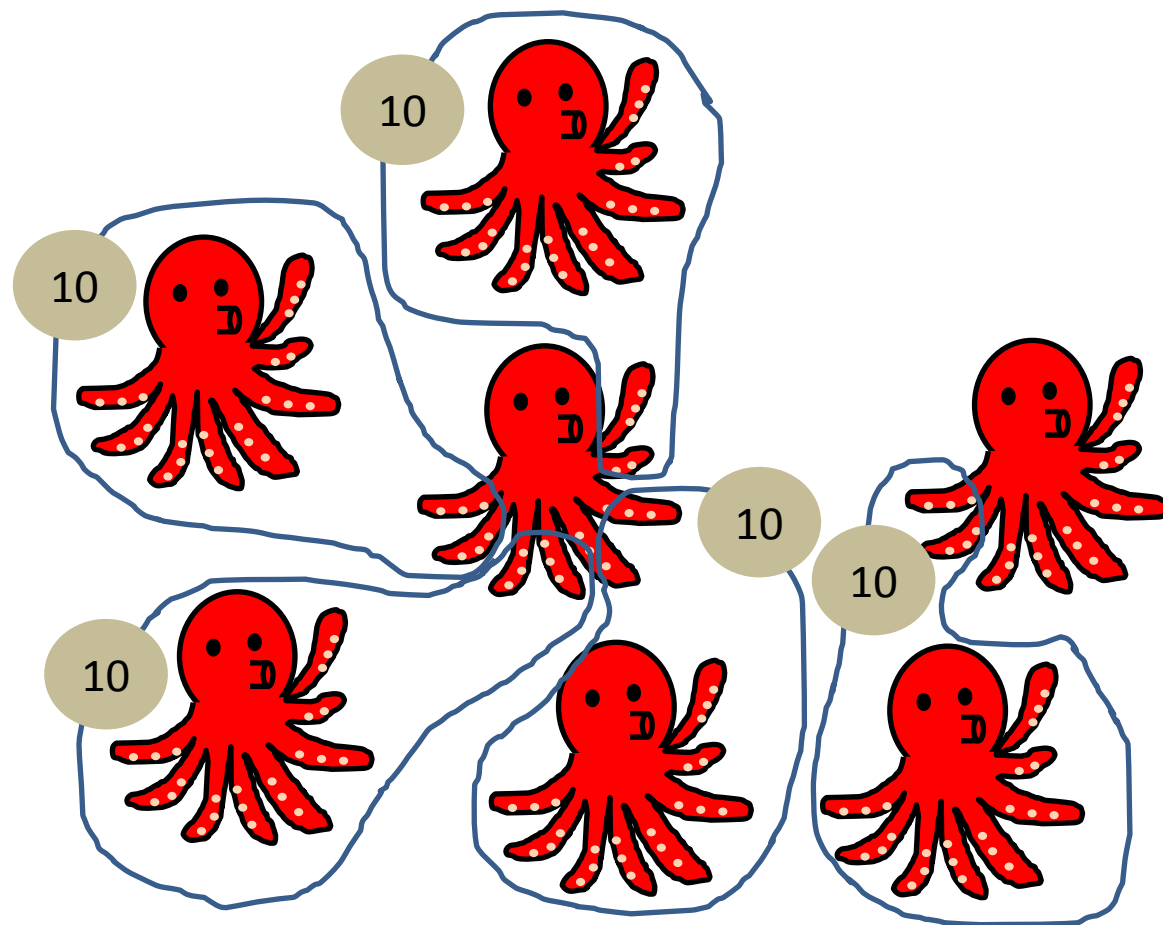
答	式 (式は答を出してから立てます)
---	-------------------

# かけ算 1

小1		小3	○	小5	
小2	◎	小4	△	小6	

な ま え	組	番
-------------	---	---

浦島太郎がタコ釣りに来ました。何と今日は7匹も釣れました。太郎が釣ったタコの足の数は全部で何本でしょうか。  
 足の数は、たしかイカが10本でタコは8本でしたね。絵図を描いて求めましょう。



わかるとは絵にできること  
 かんがえ 考えるとはその絵を動かすこと！


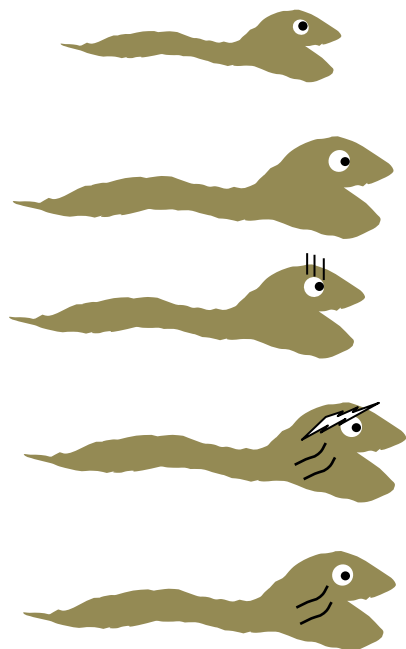
答	56本	式 例 $8 \times 7 = 56$
---	-----	-----------------------

# かけ算 2

小1		小3	○	小5	
小2	◎	小4	△	小6	

な ま え	組	番
-------------	---	---

蛇のスネーク君が、お父さん、お母さん、お祖父ちゃん、お祖母ちゃんと一緒に蛇イチゴ狩りに来ました。  
 蛇イチゴ狩りセンターでは、1匹の蛇につき最高10個まで蛇イチゴを食べてもいいルールになっています。  
 スネーク君たち全員では、最高何個蛇イチゴを食べる事ができるか、絵図を描いて求めましょう。



まちが 間違いは宝物、たからもの 消しゴムつかを使うべからず！


答	50こ	式例	$10 \times 5 = 50$ $10 + 10 + 10 + 10 + 10 = 50$
---	-----	----	---

# かけ算 3

小1		小3	◎	小5	△
小2	○	小4	○	小6	

な ま え	組	番
-------------	---	---

とり しょうがっこう きょう きゅうしよく  
 鳥の小学校の今日の給食のおかずはミニトマトです。ひとり 3こずつミニトマトをもらえます。  
 と どり  
 飛べない鳥クラスのお友だちは全員で16人です。ミニトマトは全部で何個必要でしょうか。  
 せんせい べんとう も  
 先生はお弁当を持ってきているので給食は食べません。絵図を描いて求めましょう。



すうじ  
 数字ではなく、絵そのものでかんがえるべし！

答	48こ	式 例 $3 \times 16 = 48$
---	-----	------------------------



# かけ算 4



小1		小3	○	小5	
小2	◎	小4	△	小6	

な ま え	組	番
-------------	---	---

妖怪駄菓子屋の風船くじは、1回30円で風船の中に必ず2こお菓子が入っています。

6回風船くじをひいたら、お菓子は何個手に入るでしょうか。絵図を描いて求めましょう。

また、6回風船くじを引いたら、何円はらうことになるでしょうか。こちらも絵図を描いて求めましょう。



ぶんよ  
1文読んだらえにして  
また1文読んだら絵にすべし！

答	12個、180円	式 例	$2 \times 6 = 12$ $30 \times 6 = 180$
---	----------	-----	--


# かけ算 5


小1		小3	◎	小5	△
小2	○	小4	○	小6	

な ま ま え	組	番
------------------	---	---


ハムリンは、カブトムシを5匹、亀を3匹飼っています。昨日裏山で捕まえた2匹の兎もペットとして飼いました。ハムリンのお母さんが、「あなたの飼っているペットの足の数を全部あわせたのと同じだけ、チョコバーをあげるわ。何本になるかしら？外れたらあげないわよ！」と言ってきました。ハムリンは何本と言えばチョコバーをもらえるでしょうか。絵図を描いて求めましょう。

$6 \times 5 = 30$






$4 \times 2 = 8$



$4 \times 3 = 12$



「わからない」と言ったら脳は考えを止めていねいに全て絵にすべし！

答	50本	式 例 $6 \times 5 = 30$ 、 $4 \times 3 = 12$ 、 $4 \times 2 = 8$ $30 + 12 + 8 = 50$
---	-----	--